

## CEVAP ANAHTARI



T.C.  
ZONGULDAK VALİLİĞİ  
İL MİLLÎ EĞİTİM MÜDÜRLÜĞÜ  
2024-2025 EĞİTİM ÖĞRETİM YILI II. DÖNEM I. YAZILI  
COĞRAFYA 10. SINIF İL ORTAK SINAVI

Aldığı Puan

Okul Adı : .....  
Ad Soyad : .....  
Öğrenci No : .....  
Sınıf / Şube : .....

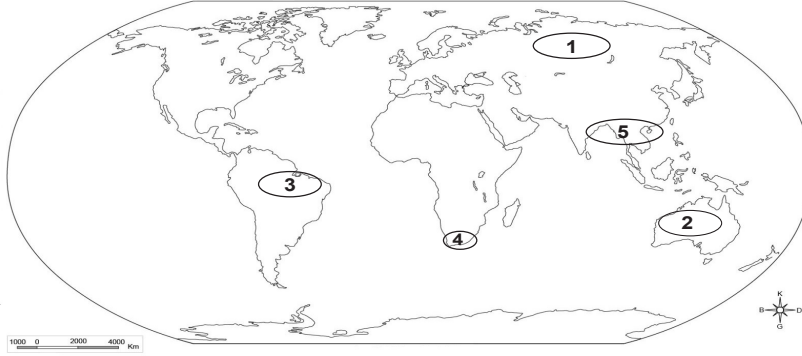
- 1) Bu kitapçıkta 7 soru bulunmaktadır.
- 2) Cevaplarınızı soruların altındaki boşluklara yazınız.
- 3) Sınav 100 tam puan üzerinden değerlendirilecektir.
- 4) Her sorunun puanı yanında yazmaktadır.
- 5) Sınav süresi 40 dakikadır.

1) Aynı cinsten veya ayrı cinsten olan, dış görünüşleri ve yaşam şekilleri benzeyen bitkilerin bir araya geldiği topluluklara *bitki formasyonu* adı verilir. Buna göre bitkiler çeşitli gruplara ve alt türlere ayrılmaktadır.

**Bitki formasyonu çeşitlerini yazıp, alt türlerinden maki ile ilgili iki özellik yazınız. (5x4=20 puan)**

- 1) Ağaç Formasyonu Maki : 1) Bodur ağaç ve çalılardan oluşur.
- 2) Çalı Formasyonu 2) Her zaman yeşil kalır ve yaprağını dökmeyen bitkilerden oluşur.
- 3) Ot Formasyonu

2)



**Yukarıdaki dünya haritasında numaralarla gösterilen yerlerde yayılış gösteren bitki örtülerinin isimlerini yazınız. (5x2=10 puan)**

- 1 Tayga Ormanları (İğne Yapraklı Ormanlar)
- 2 Çöl Bitkileri
- 3 Ekvatorial Yağmur Ormanları
- 4 Maki
- 5 Muson Ormanları

3) - Kuzey Anadolu Dağları'nın denize bakan yamaçlarında dağılış gösterir.

- Bu alanlar Türkiye'nin en gür ormanlarına sahiptir.
- Başlıca ağaç türleri: kayın, ladin, göknar ve karaçamdır.

**Yukarıda çeşitli özellikleri verilen Türkiye'deki ağaç formasyonunun adını yazınız. (10 puan)**

**Karadeniz Ormanları**

4) Nüfus artış hızının yüksek olmasının olumsuz sonuçlarından üçünü yazınız. (3x5=15 puan)

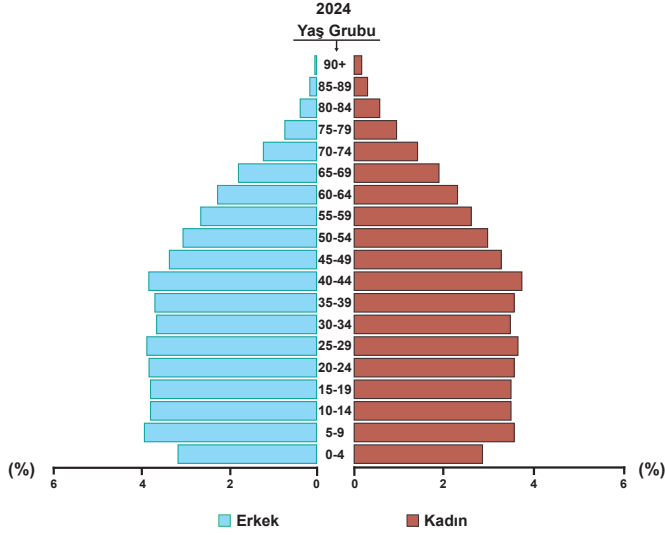
- 1) Beslenme, sağlık, barınma ve eğitim gibi hizmetlere duyulan ihtiyaç daha fazladır.
- 2) Devletin demografik yatırımlara ayırdığı pay fazladır.
- 3) Kişi başına düşen millî gelir azalır.
- 4) Doğal kaynaklar hızla tükenir.
- 5) İşsizliğin yükselmesine neden olur.
- 6) İnsanların göç etmesine sebep olur.

5) Dünyada nüfusun dağılışını etkileyen birçok doğal ve beşeri faktör bulunmaktadır.

**Buna göre doğal faktörlerden iklim ve nüfus ilişkisine örnek veriniz. (10 puan)**

İnsan yaşamı açısından elverişli şartların olduğu ılıman iklim bölgelerinde nüfus yoğunken, sıcaklık, yağış ve kuraklığın çok fazla olduğu veya aşırı soğukların görüldüğü bölgeler, yerleşmeye uygun olmadığı için seyrek nüfusludur.

6) Grafikte Türkiye' nin 2024 yılına ait nüfus piramidi gösterilmiştir. (Kaynak: <https://www.tuik.gov.tr>)



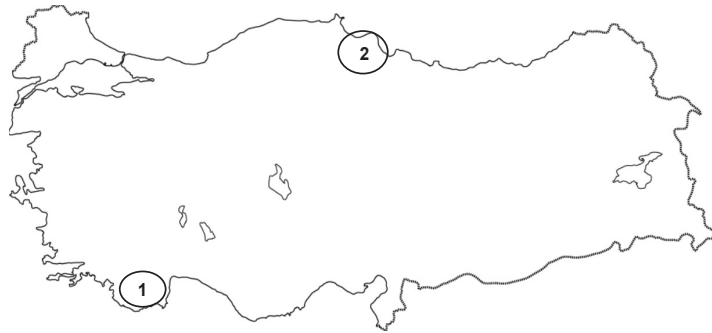
**Verilen nüfus piramidinin türünü ve bu piramit türünün özelliklerinden ikisini yazınız. (3x5=15 puan)**

Asimetrik Nüfus Piramidi.

Özellikler;

- 1) Doğum oranında ciddi bir düşüşün görüldüğü ülkelere aittir.
- 2) Piramidin üst kısmının genişlemesi yaşlı nüfusun arttığını göstermektedir.

7)



**Yukarıdaki Türkiye haritası üzerinde numaralandırılan alanlarda nüfus yoğunluğunun az veya fazla olma durumunu tabloda işaretleyip, bu durumun en önemli nedenini yazınız. (4x5=20 puan)**

Bölge	Nüfus Yoğunluğu		Nedeni
	Fazla	Az	
1		x	Karstik arazinin yoğun olarak görülmesi
2	x		Verimli tarım arazisi ve dağların kıyı gerisinden başlamaması