



## ZONGULDAK İL MİLLİ EĞİTİM MÜDÜRLÜĞÜ

ZONGULDAK ÖLÇME DEĞERLENDİRME MERKEZİ MÜDÜRLÜĞÜ  
2022-2023 EĞİTİM-ÖĞRETİM YILI  
5.SINIF HAZIRBULUNUŞLUK UYGULAMASI

Bu teste bulunan ders/dersler ve soru sayısı	
TÜRKÇE	10
MATEMATİK	10
FEN BİLİMLERİ	10
SOSYAL BİLGİLER	10
DİN KÜLTÜRÜ VE AHLAK BİLGİSİ	5
İNGİLİZCE	5

1. Her mevsimin beraberinde getirdiği pek çok güzellik vardır. Özellikle de fotoğrafçılığı sevenler için doğa farklı manzaralar sunar. Ama fotoğrafçıların dikkat etmesi gereken durumlar vardır. Yazın fotoğraf çekmek zordur çünkü ışık dik gelir. Kışın da hava genelde kapalı olduğu için ya çok az ışık vardır ya da hiç yoktur. Bu yüzden ışığın şiddeti ve açısı iyi ayarlanmalıdır.

**Bu parçaya göre fotoğrafçılıkta önemli olan nokta aşağıdakilerden hangisidir?**

- A) Farklı manzaralar bulmak
- B) Işığı iyi kullanmak
- C) Yapılan işi sevmek
- D) İyi bir gözlemci olmak

2. 1. Bu yüzden dünyada pek az kitap vardı.  
2. Bunun ne kadar güç bir iş olduğunu tahmin edersiniz.  
3. Yüzerce yıl önce kitaplar elle yazılırdı.  
4. Bunlar çok pahalı satıldığından ancak zenginler tarafından satın alınıyordu.

**Numaralandırılmış cümlelerle anlamlı bir paragraf oluşturmak için sıralama nasıl olmalıdır?**

- A) 4 - 2 - 1 - 3
- B) 3 - 1 - 2 - 4
- C) 4 - 3 - 2 - 1
- D) 3 - 2 - 1 - 4

3. Bir nisan akşamıydı. Geniş ve manzaralı o odada geçirildi gece. Sabah erkenden balık tutmaya çıkıldı. Hava bir tuhaftı. Uzakta fırtına bulutuna da benzer bir sis vardı.

**Bu parçada aşağıdaki hikâye öğelerinden hangisi belirtilmemiştir?**

- A) Ana karakter
- B) Olay
- C) Yer
- D) Zaman

4.

Bu kış soğuktu.	Bahçedeki havuz dolu.	Burnum akıyor.
Onun altın gibi kalbi var.	Çantam çok ağırdı.	Çok ince düşünüyorsunuz.
Çiçekler güzel kokuyor.	Hakan davranışlarıyla onu kırdı.	Yeni elbisesini giydi.

Verilen tabloda mecaz anlamlı kelimelerin bulunduğu kutular işaretlendiğinde aşağıdaki görsellerden hangisine ulaşılır?

A)

✓		
✓		✓

C)

✓		✓
	✓	

B)

		✓
	✓	
		✓

D)

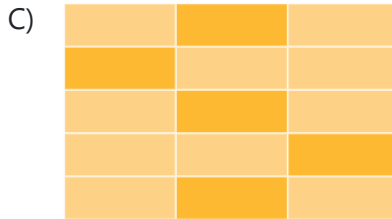
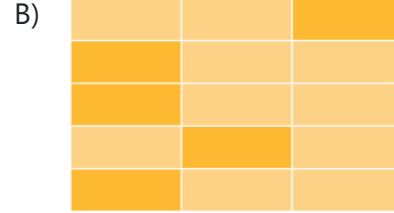
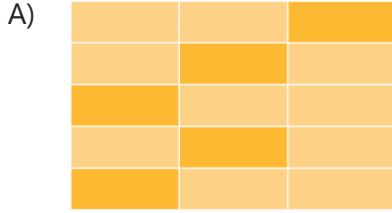
		✓
	✓	
✓		

5. Zeynep bir kelime oyunu oynamaktadır. Oyunun kuralına göre 1. satırdaki zıt anlamlı sözcüklerin bulunduğu kutudan başlayarak sırayla 2, 3, 4 ve 5. satırlardaki zıt anlamlı sözcüklerin bulunduğu kutulara basarak ilerleyecektir.



1. Satır ►	Bellek - Hafıza	Sözcük - Kelime	İlkel - Çağdaş
2. Satır►	Nehir - Irmak	Cimri - Cömert	Dil - Lisan
3. Satır►	Parlak - Mat	Cevap - Yanıt	Duyu - His
4. Satır►	Vatandaş - Yurttaş	Ret - Kabul	Çağrı - Davet
5. Satır►	Seyrek - Sık	Model - Örnek	Misafir - Konuk

Buna göre Zeynep doğru kutulara basarak ilerlediğinde hangi şekil elde edilmiş olur?



6. Aşağıdaki ifadelerin hangisinde altı çizili söz grubu deyim değildir?

- A) Tüm gün gereksiz konuşmalarıyla başımı şişirdi.  
B) Bazen ağzından çıkanı kulağın duymuyor.  
C) Dün gece döndüm durdum, gözümü kırpmadım.  
D) Yeter artık deyip kapıyı çarpıp gitmiş.

7. 1. ilginç  
2. ilgilendirmek  
3. ilgilenmek

**Numaralanmış kelimelerin sözlükteki sıralaması aşağıdakilerden hangisidir?**

- A) 2-1-3  
B) 2-3-1  
C) 3-2-1  
D) 3-1-2

8. Aşağıdakilerin hangisinde "da, de"- nin yazımı yanlıştır?

- A) Arabada beni görünce çok şaşırdı.  
B) Masanın ortasında büyük bir vazo vardı.  
C) Bende onlar kadar bu duruma sevinmiştim.  
D) Aradığım kitap sende vardır diye düşündüm.

9. Arkadaşlar merhaba( ) Aynı türden nesnelere bir araya getirilmesine "koleksiyon" denir.

Siz de bir koleksiyoncu olmak ister misiniz( ) İlgi duyduğunuz her nesneden bir koleksiyon oluşturabilirsiniz. Zaman geçtikçe koleksiyonunuzdaki parça sayısının artacağını unutmayın.

Koleksiyonunuzu sergilemek ve korumak için saklama kutuları( ) raflar( ) çerçeveler veya albümler hazırlayabilirsiniz( )

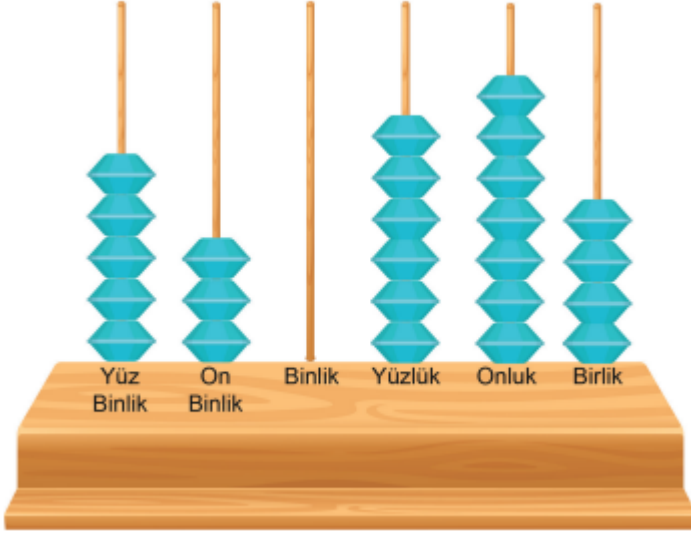
**Bu parçada yay ayraçlarla ( ) belirtilen yerlere, aşağıdakilerin hangisinde verilen noktalama işaretleri sırasıyla getirilmelidir?**

- A) (!) (?) (,) (,) (.)  
B) (,) (?) (,) (,) (!)  
C) (!) (,) (;) (;) (.)  
D) (,) (,) (;) (,) (!)

10. Aşağıdakilerin hangisinde büyük harflerin kullanımıyla ilgili yanlışlık yapılmıştır?

- A) Şimdi bazı okullarda yabancı dil olarak Çince öğretiliyor.  
B) Dün gece, satürnün halkalarını teleskopla gözlemledik.  
C) Türkiye İş Kurumu, birçok kişiyi iş sahibi yapmıştır.  
D) Öğretmenimiz, müzede Taş Devri ile ilgili bilgiler verdi.

1. Aşağıdaki abaküste altı basamaklı bir doğal sayı oluşturulmuştur.



**Buna göre bu doğal sayının okunuşu aşağıdakilerden hangisidir?**

- A) Dört yüz otuz bin üç yüz elli beş
- B) Dört yüz otuz bin altı yüz yetmiş dört
- C) Beş yüz otuz bin üç yüz elli beş
- D) Beş yüz otuz bin altı yüz yetmiş dört

2. Aşağıda rakamların yer aldığı sayı kartları verilmiştir.



1. Kart



2. Kart

- . 1. kartta verilen rakamlar birer kez kullanılarak dört basamaklı en büyük doğal sayı oluşturulacaktır.
- . 2. kartta verilen rakamlar birer kez kullanılarak dört basamaklı en küçük doğal sayı oluşturulacaktır.

**Buna göre oluşturulan doğal sayılar arasındaki fark kaçtır?**

- A) 3692
- B) 5851
- C) 6364
- D) 7122

3. Tabloda bazı illerin deniz seviyesinden yükseklikleri verilmiştir. Bu sayıları en yakın yüzlüğe yuvarladığımızda, hangi ilin deniz seviyesinden yüksekliği diğerlerinden farklı olur?

Tablo: İllerin Deniz Seviyesinden Yüksekliği

İl	Yükseklik (m)
Bingöl	1177
Gümüşhan	1210
Mardin	1150
Nevşehir	1250

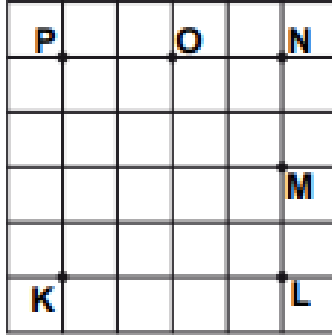
- A) Nevşehir  
B) Mardin  
C) Gümüşhane  
D) Bingöl

4. 672 öğrencisi olan bir okul, öğrencilerinin tamamını otobüsle müzeye götürmek istiyor.

Otobüs 42 kişilik olduğuna göre müzeye gitmek için kaç otobüse ihtiyaç vardır?

- A) 15  
B) 16  
C) 17  
D) 18

5.



Aşağıdakilerden hangisindeki üç nokta doğru parçaları ile birleştirilirse çeşitkenar bir üçgen oluşur?

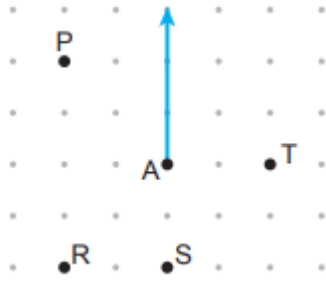
- A) K, L, N  
B) K, L, O  
C) P, K, M  
D) P, N, M

6. Selim, 162 sayfalık bir kitabın  $\frac{2}{6}$  'sını okumuştur.

Buna göre Selim, kitabı bitirmek için kaç sayfa daha okumalıdır?

- A) 135  
B) 108  
C) 81  
D) 54

7.




Noktalı kâğıtta köşesi A noktası olan açının bir kenarı verilmiştir.

**Bu açının dar açı olması için diğer kenarı hangi noktadan geçmelidir?**

- A) P                      B) R                      C) S                      D) T

8.



**Her birinin çevresi 24 cm olan üç kare aralarında boşluk kalmayacak şekilde yukarıdaki gibi yan yana getirilmiştir. Bu şeklin çevresi kaç santimetredir?**

- A) 72                      B) 54                      C) 48                      D) 36

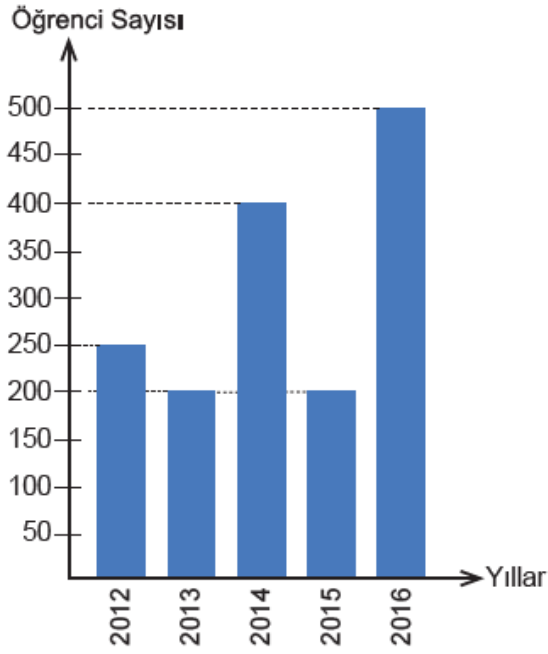
**9. 1 dakikada 70 kez atan bir kalp, yarım saatte kaç kez atar?**

- A) 1800                      B) 1900  
C) 2100                      D) 2200



10.

**Grafik: Geziye Katılan Öğrenci Sayısı**



Bir okulun son 5 yılda düzenlediği gezilere katılan öğrenci sayılarının yıllara göre dağılımı yukarıdaki grafikte verilmiştir.

**Buna göre aşağıdaki ifadelerden hangisi yanlıştır?**

- A) Geziye katılan öğrenci sayısının en az olduğu yıl 2014 yılıdır.
- B) 2012 yılında geziye katılan öğrenci sayısı 2016 yılındakinin yarısıdır.
- C) Geziye katılan öğrenci sayısının en fazla olduğu yıl 2016 yılıdır.
- D) 2013 ve 2015 yıllarında geziye katılan öğrenci sayıları eşittir.

1. Yer kabuğunu oluşturan yapılara ilişkin bazı tanımlar verilmiştir.

- Milyonlarca yıl önce canlı olan bitki ve hayvanların taşlaşmış kalıntılarıdır.
- Ekonomik değeri yüksek olan taş ve minerallerdir.
- Bir veya birden fazla mineralden oluşan kaya ve taş parçalarıdır.

**Aşağıdaki kavramlardan hangisi verilen tanımlamaların dışında kalır?**

- A) Fosil  
B) Kayaç  
C) Maden  
D) Mineral

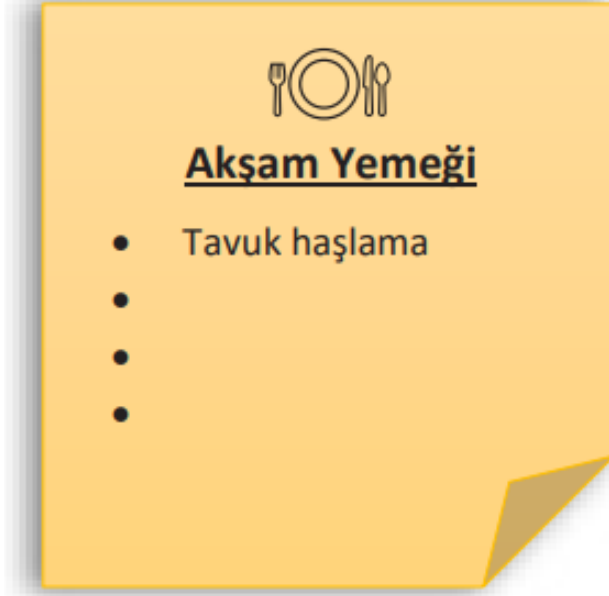
2. Bir öğrenci, insanın beslenmesinde yer alan çeşitli besin içeriklerini ve bu besin içeriklerinin vücudumuzdaki öncelikli görevlerini aşağıdaki tabloda eşleştirmiştir.

Besin içerikleri	Görevi
Proteinler	Yaraların onarılmasında ham madde olarak kullanılır.
Vitaminler	Yürüme, koşma için enerji üretmede görev alır.
Karbonhidratlar	Hastalıklara karşı vücut direncinin artırılmasında görev alır.

**Buna göre yapılan eşleştirmeler için aşağıdakilerden hangisi söylenebilir?**

- A) Öğrencinin yapmış olduğu eşleştirmelerin hepsi doğrudur.  
B) Karbonhidrat ve vitaminlerin görevleri birbiriyle yer değiştirdiğinde eşleştirmeler doğru olur.  
C) Proteinler ve vitaminlerin görevleri birbiriyle yer değiştirdiğinde eşleştirmeler doğru olur.  
D) Proteinler ve karbonhidratların görevleri birbiriyle yer değiştirdiğinde eşleştirmeler doğru olur.

3. Emre'nin akşam yemeđi listesi grselde verilmiřtir.



**Liste ařađıdakilerden hangileri ile tamamlanırsa, Emre dengeli ve sađlıklı beslenmiř olur?**

- A) kızartma – makarna – pilav
- B) yođurt – ayran – salata
- C) orba – salata – yođurt
- D) et ızgara – makarna – pilav

4. Tuğçe, mıknatıslarla ilgili tabloda verilen bilgileri doğru ve yanlış olma durumlarına göre işaretlemiştir. Daha sonra hata yaptığını fark etmiştir.

	Doğru	Yanlış
Mıknatısın cisimlere uyguladığı kuvvet temas gerektiren kuvvettir.	★	
Mıknatısların en eski kullanım alanlarından biri pusuladır.		■
Mıknatısların kuzey ve güney olmak üzere iki kutbu vardır.	▲	
Mıknatısın zıt kutupları birbirini iter, aynı kutupları birbirini çeker.		●

Tuğçe hatalarını düzelttiğinde oluşan yeni tablo hangisidir?

A) 

D	Y
★	
	■
▲	
	●

B) 

D	Y
	★
■	
▲	
	●

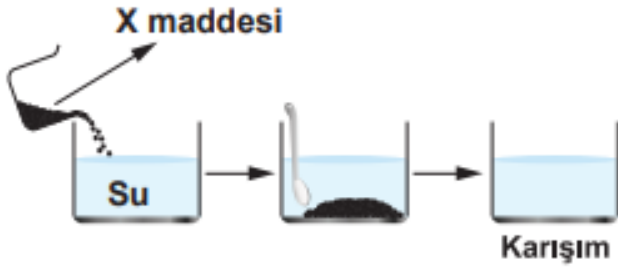
C) 

D	Y
★	
	■
▲	
●	

D) 

D	Y
	★
	■
▲	
●	

5. Şekilde, bir miktar X maddesi suya ilave edilip karıştırılarak karışım elde ediliyor.



Oluşan bu karışımdan, ilave edilen maddeyi tekrar elde etmek için karışıma aşağıdaki ayırma yöntemlerinden hangisi uygulanmalıdır?

- A) Süzme ile ayırma  
B) Mıknatıs ile ayırma  
C) Yüzdürme ile ayırma  
D) Buharlaştırma ile ayırma

6. Öğretmen bir soru sormuş ve öğrenciler aşağıdaki doğru cevapları vermiştir.



**Buna göre, öğretmenin sorusu aşağıdakilerden hangisidir?**

- A) Işık kirliliği nedir?
- B) Işık kirliliğinin olumsuz etkileri nelerdir?
- C) Işık kirliliğini azaltmak için alınabilecek önlemler nelerdir?
- D) Işık kirliliğinin nedenleri nelerdir?

7. Aşağıda sesle ilgili teknolojik araçlar gruplandırılmıştır.



Sesi kaydedenler



Ses düzeyini değiştirenler

**Bu gruplamanın doğru olması için hangi araçların birbiriyle yeri değiştirilmelidir?**

- A) Hoparlör ve kaset
- B) CD ve işitme cihazı
- C) DVD ve megafon
- D) Kaset ve CD

8. Kaan, bir bilyenin hacmini ölçmek için bazı malzemeler kullanıyor.



**Buna göre Kaan'ın deneyini gerçekleştirmesi için kaç numaralı malzemeleri kullanması yeterlidir?**

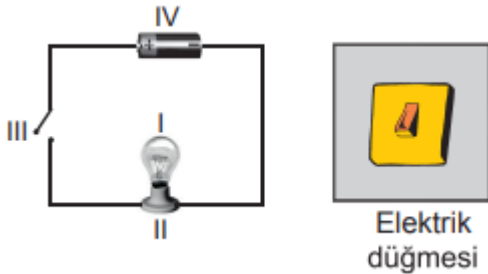
- A) I, II ve V.                      B) I, III ve V.  
C) II, III ve V.                    D) II, III ve IV.

9. Bir apartmanda oturan aileler "sağlıklı bir çevre oluşturmak ve doğal kaynakları verimli kullanmak" için bazı kararlar alıp uyguluyorlar.

**Aşağıdakilerden hangisi bu amaca uygun doğru uygulamalardan değildir?**

- A) Katı atıkların hepsini bir plastik poşete koyarak apartmandan uzak olan bir sokağa bırakmak  
B) Yağmur sularını depolayarak apartman bahçesindeki ağaçları sulamak için kullanmak  
C) Evde biriken kâğıt ve cam atıkları ayrı çöp kutularına bırakmak  
D) Apartman bahçesinin bir kısmına ağaç, bir kısmına da çiçek dikmek

10. Şekilde basit elektrik devresi ve duvarda bulunan bir elektrik düğmesi verilmiştir.



**Bu düğme, elektrik devresindeki kaç numaralı devre elemanının yaptığı işi yapar?**

- A) I                      B) II                      C) III                      D) IV

1. Aşağıda bir çocuğun hayatından alınan bazı olaylar bulunmaktadır.

I. Üçüncü sınıfa giderken kardeşim Cansu doğmuştu.

II. Üç yaşında kreşe başladım.

III. Altıncı sınıfa giderken beş yaşından beri çaldığım piyano sayesinde ödül kazandım.

IV. Kardeşim doğduktan bir yıl sonra Amerika'ya gittik.

**Bu olayların kronolojik sıralaması aşağıdakilerin hangisinde verilmiştir?**

A) I – II – IV – III

B) II – I – IV – III

C) II – III – I – IV

D) IV – I – III – II

2. Aşağıda Türkiye siyasi ve Türkiye fiziki haritaları verilmiştir.



**İki harita karşılaştırıldığında;**

I. Siyasi haritalarda il isimleri belli iken fiziki haritalarda il isimleri yazılmaz.

II. Fiziki haritalarda dağ ve ova isimleri belirtilirken siyasi haritalarda bu isimlere yer verilmez.

III. Fiziki haritalarda, siyasi haritalardan farklı olarak ormanlık alanları belirtmek için yeşil renk kullanılır.

**İfadelerinden hangileri doğrudur?**

A) Yalnız II

B) I ve II

C) I ve III

D) I, II ve III

3.	1. Görüşme yapılacak kişi belirlenir.
	2. Görüşme yeri ve zamanı belirlenir.
	3. Sorular belirlenir.
	4. Görüşme yapılır.
	5. Görüşme sırasında kullanılacak araç gereçler hazırlanır.
	6. Görüşme kayıtları düzenlenerek yazılı hâle getirilir.

Sözlü tarih araştırması yapacak olan bir öğrenci, yukarıdaki planı hazırlamıştır. Daha sonra incelediğinde planında bir hata olduğunu fark etmiştir.

**Hatanın düzeltilmesi için hangi aşamalar yer değiştirmelidir?**

- A) 1 ve 3  
B) 2 ve 4  
C) 4 ve 5  
D) 5 ve 6

4. Millî Mücadele sürecinde yaşanan bazı gelişmeler şunlardır:

1. Sivas Kongresi
2. Amasya Genelgesi
3. Erzurum Kongresi
4. Büyük Millet Meclisinin açılması

**Bu gelişmelerin oluş sırası aşağıdakilerden hangisidir?**

- A) 1 - 3 - 2 - 4  
B) 2 - 3 - 1 - 4  
C) 2 - 3 - 4 - 1  
D) 4 - 1 - 3 - 2

5. Öğretmen, sınıftaki öğrencilerden yön bulma ile ilgili bilgi vermesini istemiştir.

**Ahmet:** Kutup yıldızını karşımıza aldığımızda arkamız kuzeydir.

**Nuray:** Ağaç ve taşların yosunlu kısımları doğuyu gösterir.

**Zeynep:** Güneşin doğduğu yere sağ kolumuzu uzatırsak önümüz kuzeydir.

**Cenk:** Pusulanın renkli ucu her zaman batıyı gösterir.

**Bu öğrencilerden hangisinin yön bulma tarifinde verdiği bilgi doğrudur?**

- A) Ahmet  
B) Nuray  
C) Zeynep  
D) Cenk

6. Emel, teknoloji tasarım dersinde bir ürün tasarlamak istiyor. **Aşağıdakilerden hangisi bu ürünün taşıması gereken bir özellik değildir?**

- A) İhtiyaçları karşılamaya uygun olması  
B) Benzer ürünlerle aynı özelliği taşıması  
C) Mevcut bir ürüne yeni özellikler kazandırması  
D) İşleri kolaylaştırması



7. Ülkemizde, her türlü ürünün hangi kalitede ve nitelikte olacağını belirlemek amacıyla, aşağıdakilerden hangisi kurulmuştur?

- A) Türkiye Bilimsel ve Teknolojik Araştırma Kurumu
- B) Türkiye Radyo Televizyon Kurumu
- C) Sosyal Güvenlik Kurumu
- D) Türk Standartları Enstitüsü

8.

Merhaba ben Japonya'dan Şinpey. Ülkemiz adalardan oluşur. En önemli besin kaynağımız balıktır. Apartmanlarda küçük dairelerde yaşarız. Ülkemizde herkes okuma yazma bilir.



Ben de Nijer'den Joy Joy. Denizi olmayan bir Afrika ülkesinde yaşıyorum. Tahıl ve hayvansal ürünlerle beslenir, tek katlı toprak ve kamıştan yapılmış evlerde yaşarız. Ülkemizde çok az kişi okuma yazma bilir.



**Diyaloga bakarak aşağıdakilerden hangisi söylenebilir?**

- A) Nijer'de sanayi gelişmiştir.
- B) Nijer'de turizm gelişmiştir.
- C) Japonya'da eğitim gelişmiştir.
- D) Japonya'nın yer altı kaynakları boldur.

9. Sema her fırsatta arkadaşlarına bilinçli bir tüketici olduğunu söylemektedir.

**Buna göre aşağıdakilerden hangisi Sema'nın söylediğine uygun bir davranış değildir?**

- A) Bütçesine uygun alışveriş listesi hazırlamak
- B) Bütçesinden alışveriş için belli bir miktar ayırmak
- C) Alacağı ürünün fiyatı kadar kalitesine de dikkat etmek
- D) Alacakları arasında ihtiyaçlarından önce isteklerini sıralamak

**10. Ülkemizde millî egemenliğin temsil edildiđi yer, ařađıdakilerden hangisidir?**

- A) Türkiye Büyük Millet Meclisi
- B) Anayasa Mahkemesi
- C) İl Genel Meclisi
- D) Cumhuriyet Başsavcılığı

1. I. Bismillâhirrahmânirrahîm. (Besmele)
- II. Selamün aleyküm. (Selam)
- III. Allâhu ekber. (Tekbir)
- IV. Sallallâhu aleyhi ve sellem. (Hamd)

**Yukarıdaki dinî ifadelerden hangisinin yay araç ( ) içinde verilen adı yanlıştır?**

- A) I                                      B) II                                      C) III                                      D) IV

2. Sena Öğretmen sınıfa dönüp: Kim İslam'ın beş şartından iki tanesini söylemek ister, diye sordu. Öğrenciler sırayla aşağıdaki cevapları verdi:



**Hangi öğrencinin verdiği cevap doğrudur?**

- A) Ayşe                                      B) Mehmet                                      C) Ali                                      D) Ebru

3. Hz. Muhammed (sav.), arkadaşlık ilişkileri konusundaki bir hadisinde "Allah katında arkadaşların en hayırlısı, arkadaşına karşı hayırlı davranandır." buyurmuştur. Yine "Kişi, arkadaşının dini (yolu, yaşayışı) üzeredir. Öyleyse sizden her biriniz, kiminle arkadaşlık ettiğine dikkat etsin." sözüyle de bu konuya dikkat çekmiştir.

**Buna göre aşağıdaki atasözlerinden hangisi metinde anlatılanlarla ilgili değildir?**

- A) Kişi arkadaşından bellidir.  
B) Arkadaşını söyle, kim olduğunu söyleyeyim.  
C) Dağ dağa kavuşmaz, insan insana kavuşur.  
D) Üzüm üzüme baka baka kararır.

4. Hz. Muhammed (sav.) evinin geçimini sağlamaya çalışan amcasına yardımcı olmak amacıyla daha on yaşlarındayken onun hayvanlarını otlatmaya başladı. Böylece Mekke'nin çevresindeki dağlarda ve ovalarda geçirdiği vakitler boyunca tabiatı gözlemlene ve yaratılışın güzelliklerini görme imkânı buldu.

**Metindeki altı çizili bölümde, Hz. Muhammed'in (sav.) hangi özelliğine vurgu yapılmaktadır?**

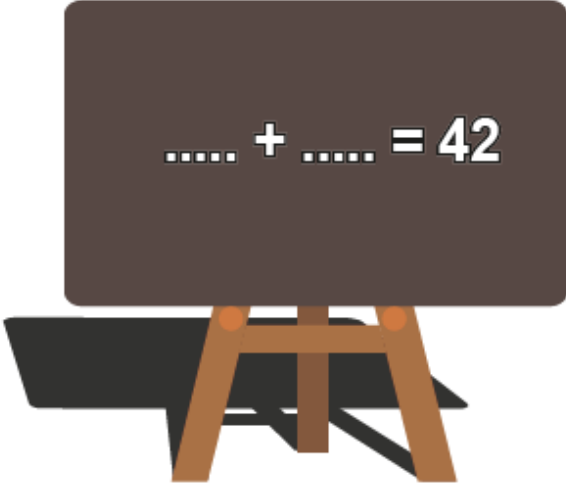
- A) Cömertliğine  
B) Duyarlılığına  
C) Temizliğine  
D) Affediciliğine

5. "Onlar bollukta da darlıkta da Allah yolunda harcarlar, öfkelerini yenerler, insanları affederler. Allah, işini güzel yapanları sever." (Âl-i İmrân suresi, 134. ayet)

**Aşağıdakilerden hangisi bu ayetten çıkarılabilecek bir davranış biçimi olamaz?**

- A) Görevini en iyi şekilde yapmak  
B) Hata yapanları affetmek  
C) Gösteriş yapmak  
D) Öfkesine hâkim olmak

1. Look at the board. Choose the correct answer.



- A) Thirty + fourteen
- B) Twenty + twenty-five
- C) Thirty + twelve
- D) Fifty + seven

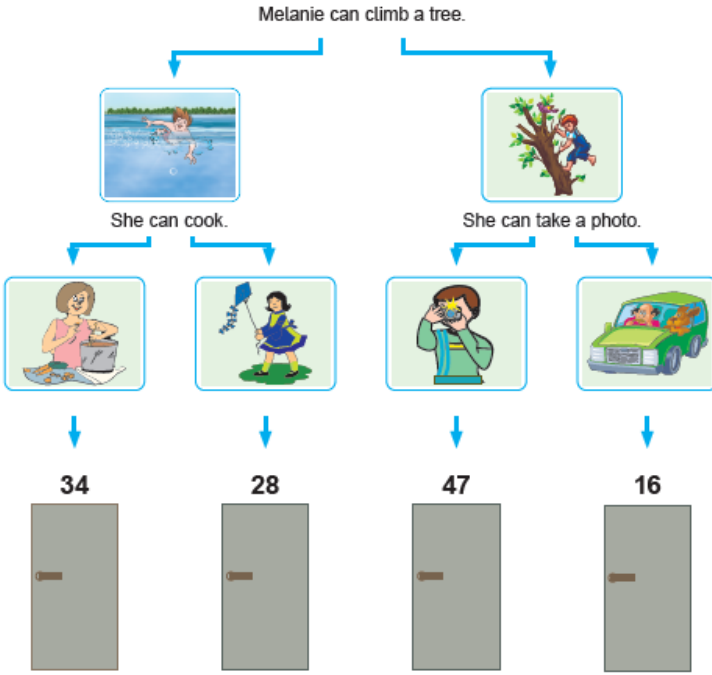
2. Read the dialogue.



**Choose the correct answer.**

- A) Sit down, please
- B) Give me the baby, please
- C) Sorry, not right now
- D) Stay in the line

### 3. Choose the correct pictures and follow the path.



Which door does Melanie go?

**Choose the correct one.**

- A) sixteen  
B) twenty-eight  
C) thirty-four  
D) forty-seven

### 4. Look at the table.

<b>Name</b>	Olivia	Frank
<b>Age</b>	11	9
<b>Ability</b>	singing	playing tennis
<b>Like</b>	dancing	learning English
<b>Dislike</b>	watching cartoons	reading comics

**Which one is correct according to the table?**

- A) Olivia is eleven years old and she can play tennis.  
B) Frank is nineteen years old and he likes learning English.  
C) Olivia does not like watching cartoons, but she likes dancing.  
D) Frank can't sing, but he likes reading comics.

5. Look at the chart.

	riding a bike	listening to music	singing songs
Ally	✓	✗	✗
James	✗	✓	✓
Clara	✓	✗	✓

Choose the correct answer.

- A) Ally likes singing songs.
- B) James doesn't like listening to music.
- C) James likes riding a bike.
- D) Clara doesn't like listening to music.