



T.C.  
MİLLÎ EĞİTİM BAKANLIĞI  
ÖLÇME, DEĞERLENDİRME VE SINAV HİZMETLERİ GENEL MÜDÜRLÜĞÜ

2020 - 2021 EĞİTİM VE ÖĞRETİM YILI  
Sınavla Öğrenci Alacak Ortaöğretim Kurumlarına  
İlişkin Merkezî Sınava Yönelik  
Şubat Ayı Örnek Soruları  
(SÖZEL BÖLÜM)

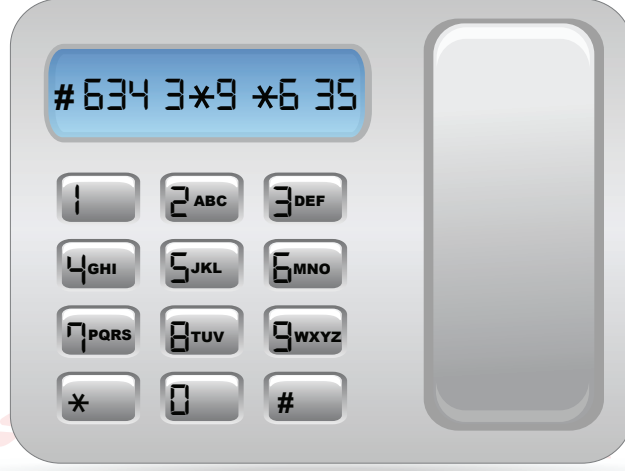


- Bu kitapçıkta toplam 25 soru bulunmaktadır.
  - Türkçe : 10 soru
  - T. C. İnkılap Tarihi ve Atatürkçülük : 5 soru
  - Din Kültürü ve Ahlak Bilgisi : 5 soru
  - Yabancı Dil (İngilizce) : 5 soru



## Türkçe Örnek Soruları

1.



Yukarıda verilen telefon, arızalı olduğu için bir tuşa basıldığında o tuştan bir sonrakine basılmış gibi algılıyor. Ancak Ayşe, bu durumu bilmediğinden aramak istediği numaranın tuşlarına basmış ve ekranda “# 634 3\*9 \*6 35” numarası çıkmıştır.

**Ekranda çıkan numaradan hareketle Ayşe'nin aramak istediği numara için basması gereken tuşlar aşağıdakilerin hangisinde doğru verilmiştir?**

- A) \* 412 187 85 13      B) \* 412 187 84 13      C) \* 410 187 85 13      D) \* 410 187 84 13

2. Yaşam şeklimiz, vaktimizi değerlendirme biçimimiz ve yaşadığımız kentler gittikçe değişiyor. Bilgisayar, internet, akıllı telefon gibi teknolojik öğeler yaşamımızı yeniden şekillendirdi. Sağlıkla ilgili yeni gelişmelere imza atmak I (etkisini kalıcı duruma getirmek) konusunda bizi harekete geçiren II (bir işin yapılmasına sebep olmak, kımıldatmak, canlandırmak), bu yenilikler oldu. Böyle araçlar yapılabiliyorsa mucize ilaçlar üretilebilmesinin de artık eli kulağında III (çok yakın bir zamanda olması beklenen) olmalı. Peki, sizce insanoğlu bu muhteşem yenilikler sayesinde hastalıkların hakkından gelebilecek IV (zor bir işi başarı ile sona erdirmek) mi?

**Bu parçada numaralanmış sözlerden hangisinin anlamı yay ayraç içinde verilen açıklamayla uyuşmamaktadır?**

- A) I      B) II      C) III      D) IV

**3 ve 4. soruları aşağıdaki metne göre cevaplayınız.**

536 senesi, dünyada kış mevsiminin sona ermediği yıl olarak tarihe geçmiştir. O yıl gerçekleşen bazı volkanik patlamalardan sonra açığa çıkan kül bulutları atmosferi kaplamış, bazı bölgelerde yaz mevsiminde kar yağmıştır. Hava sıcaklıklarındaki düşüş nedeniyle o dönemde buğdaylar yetişmemiş, pek çok bölgede kıtlık yaşanmıştır. Doğu Roma İmparatorluğu nüfusunun neredeyse yarıya düşmesine neden olan veba salgınının bu kıtlıkla ilişkili olabileceği düşünülüyor. O dönemde olağan dışı olayların görüldüğüyle ilgili farklı bulgular da var. 1990'lı yıllarda ağaç halkalarına dayanılarak yapılan araştırmalar 536-550 yıllarının dünyanın birçok yerinde normalden çok daha soğuk geçtiğini göstermekte; Grönland ve Antarktika'dan alınan buz örnekleri, iki büyük volkanik patlamaya işaret etmektedir. Ayrıca Procopius adlı bir tarihçinin eserinde bu konuyla ilgili çeşitli açıklamalar yer almaktadır.

**3. Bu metinde sözü edilen volkanik patlamalarla ilgili,**

- I. İnsanların ekonomik durumunu etkilemiştir.
- II. Küresel ölçekte iklim değişikliğine neden olmuştur.
- III. Bazı doğal afetlerin sonucunda oluşmuştur.

**yargılarından hangilerine ulaşamaz?**

- A) Yalnız I                      B) Yalnız III                      C) I ve II                      D) II ve III

**4. Bu metnin anlatımıyla ilgili aşağıdakilerden hangisi söylenemez?**

- A) Açıklayıcı anlatımdan yararlanılmıştır.
- B) Örneklerle anlatım zenginleştirilmiştir.
- C) Tanık göstermeden yararlanılmıştır.
- D) Bir olasılıktan söz edilmiştir.

**5. İnternette yayımlanan yazılarda kullanılan başlıkların özgün olması çok önemlidir. Bu başlıklar okurun ilgisini çekecek şekilde oluşturulmalıdır. Aşağıda ilgi çekici başlık oluşturmayla ilgili bazı ipuçları yer almaktadır.**

- Okuru yönlendiren emir cümleleri kullanılmalıdır.
- Saygı duyulan kişilerden söz eden başlıklar tercih edilmelidir.
- Kişisel bir deneyim anlatılarak hem merak uyandırılmalı hem de okurun empati kurması sağlanmalıdır.
- İki durumun karşılaştırılmasıyla oluşturulan başlıklar kullanılarak okuyucunun ilgisi çekilmelidir.

**Aşağıdaki başlıklardan hangisi bu metinde verilen ipuçlarından herhangi biriyle ilişkilendirilemez?**

- A) Bir Haftalık Orman Kampında Öğrendiklerim
- B) Kahve mi, Çay mı: Ezeli Rakiplerin Sağlığımıza Etkisi
- C) Koruyucu Kalkanımız: Dünya'nın Manyetik Alanı
- D) Başarılı Olmak İstiyorsanız Önce Bunları Yapın



## 6. Gazeteci:

— (I) - - - -

## Müziyen:

— Bizi biz yapan ve besleyen bir coğrafyanın müzik tarzlarını kullanarak geçmişî taklit etmeden kucaklamak ve tamamen özgün eserler oluşturmak... En baştan beri peşinde olduğumuz şey buydu. Yaptıklarımız bizi tatmin etmedi tabii ki. İnsanın, ürettikçe yenisini yapası geliyor. Ama artık kendimize daha çok güveniyoruz ve daha sade eserler üretebiliyoruz.

## Gazeteci:

— (II) - - - -

## Müziyen:

— Canlı ve aracısız kayıt, heyecan vericiydi. Risk alarak doğaçlama ögesini el üstünde tuttuk ve başardığımızı düşünüyorum. Onun sihri, kaydı özellikle de plaktan dinlediğinizde hissedebiliyorsunuz.

### Bu konuşmada numaralanmış yerlere aşağıdakilerden hangisi getirilmelidir?

- A) (I) Anadolu ezgilerinden yola çıkarak geldiğiniz noktayla ilgili neler söylemek istersiniz?  
(II) Albümünüzü hazırlıksız ve içinizden geldiği gibi oluşturmanızın sonucu sizce nasıl oldu?
- B) (I) Eserlerinizi oluştururken kültürel öğelerden yararlanıyor musunuz?  
(II) Yeni albümünüzdeki şarkılara karar verirken nelere dikkat ettiniz?
- C) (I) Yerli unsurları, eserlerinize her seferinde özgün bir şekilde yansıtmayı nasıl başarıyorsunuz?  
(II) Eserlerinizi hiç deneme yapmadan müzikseverlere aktarmak sizi zorlamıyor mu?
- D) (I) Geçmişten bugüne sanatınızı icra ederken ödün vermediğiniz belli bir ölçütünüz var mı?  
(II) Dinleyicileri müziğin büyüğü dünyasında dolaştırma kararını aldıktan sonra neler yaşadınız?

7. Matematikteki “büyüktür (>)” işareti bugün sosyal medyada duygu ve düşüncelerini aktarmak isteyenler tarafından iki nesne, kişi vb. arasında karşılaştırma yapılırken yaygın olarak kullanılmakta; “>” işaretiyle beğeni, istek, destek, tercih anlamı ifade edilmektedir. Örneğin “Fatma’yı değil Ayşe’yi destekliyoruz, beğeniyoruz, tercih ediyoruz...” cümlesi yerine “Ayşe>Fatma” ifadesi kullanılıyor. Böylece “>” işareti “destekliyorum, beğeniyorum, tercih ediyorum...” anlamlarını karşılıyor. Sonuç olarak matematikte “büyüktür” anlamına gelen işaret, anlam genişlemesine uğrayarak sosyal medyada bambaşka anlamlarda kullanılıyor.

### Bu parçada “>” işaretiyle ilgili,

- I. Sosyal medyada sıklıkla kullanıldığına
- II. Matematikteki kullanımının azaldığına
- III. Farklı anlamlar ifade ettiğine

### yargılarından hangilerine değinilmiştir?

- A) Yalnız I                      B) I ve III                      C) II ve III                      D) I, II ve III

8. I. Penguenlerin kökeninin Antarktika'ya dayandığı düşünülüyordu.  
II. Ta ki California Üniversitesindeki bilim insanları bir araştırmada, penguenlerin aslında ilk olarak Avustralya ve Yeni Zelanda'da görüldüğünü bulana kadar.  
III. Genetik bilgilerin incelenmesi sonucunda penguenlerin bundan yaklaşık 22 milyon yıl önce Avustralya ve Yeni Zelanda'da yaşadığı tespit edilmiş.  
IV. Bu araştırmada bilim insanları 18 farklı penguen türünden aldıkları kan ve doku örneklerini inceleyerek penguenlerin genetik bilgilerine ulaşmış.

**Bu paragrafın anlam akışındaki bozukluğun giderilmesi için numaralanmış cümlelerden hangileri yer değiştirmelidir?**

- A) I ve III                      B) II ve III                      C) II ve IV                      D) III ve IV

9. Saçların beyazlaması, yaşın ilerlemesiyle birlikte görülen doğal bir süreçtir. Saçların renginden sorumlu olan pigment (boyar madde), saç kökündeki hücrelerden gelir. Bu hücreler önemli miktarda melanin (saça renk veren madde) üretmesi için genetik olarak kodlanmıştır. Ancak saç köklerindeki melanin üretim kapasitesi zamanla azalır. Bunun nedeni, saç köklerinde biriken "hidrojen peroksit" adlı kimyasal maddedir. Normalde her insanın saç köklerinde az da olsa hidrojen peroksit üretilir fakat vücut, bu maddeyi hemen su ve oksijene çevirir. Yaş ilerledikçe vücudun bu becerisi azalır ve hidrojen peroksit saç köklerinde birikerek melanin yapımını önler.

Saç boyaları genelde %3-6 oranında hidrojen peroksit içerir. Başka bir deyişle bir kez saç boyamak için gerekli olan 50 g saç boyası, ortalama 1,5 g hidrojen peroksit içerir. 1,5 g çok büyüülecek bir miktar gibi görünmese de vücut açısından önemli bir orandır. Bu boyalar kullanıldığı takdirde saçlarda bir miktar hidrojen peroksit birikmiş olur.

**Bu metinlere göre, boya kullanılan saçlarda aşağıdaki durumlardan hangisinin gerçekleşmesi beklenir?**

- A) Saçlardaki melanin miktarı dengelenir.  
B) Saç kökündeki hücrelerin sayısı azalır.  
C) Saçlar daha çabuk beyazlar.  
D) Saçlar yıpranmaya başlar.

10. Türkiye'nin ilk millî sondaj (su, maden, petrol vb. araştırmalar için toprağın derinliklerine sonda atmak) gemisi olan Fatih, 2017'de Türkiye Petrolleri Anonim Ortaklığı tarafından yapılan bakımın ardından 29 Ekim 2018'de Alanya'da arama çalışmalarına başladı. İkinci aramasını Doğu Akdeniz'de gerçekleştiren Fatih, 29 Mayıs 2020'de Karadeniz'deki ilk millî sondajını gerçekleştirmek üzere Haydarpaşa Limanından uğurlandı. 21 Ağustos 2020'de Zonguldak açıklarında 320 milyar m<sup>3</sup>lük bir doğal gaz kaynağı tespit ederek büyük bir başarıya imza attı.

**Bu metinde aşağıdaki yazım kurallarından hangisinin örneği yoktur?**

- A) Dört veya daha çok basamaklı sayıların kolay okunabilmesi amacıyla içinde geçen bin, milyon vb. sözcük harfle yazılabilir.  
B) Üs işaretli kısaltmalara gelen ekler, kesme işaretiyle ayrılmaz ve üs işaretinin okunuşuna uygun olarak yazılır.  
C) Kurum, kuruluş ve kurul adlarının her kelimesi büyük harfle başlar.  
D) Tarihî olay, çağ ve dönem adları büyük harfle başlar.

# T.C. İnkılap Tarihi ve Atatürkçülük Örnek Soruları

1.

I. Dünya Savaşı Öncesi Avrupa (1914)



I. Dünya Savaşı Sonrası Avrupa (1918)



Bu görsellerden hareketle I. Dünya Savaşı sonrası durumla ilgili,

- I. Avrupa'nın siyasi haritası değişmiştir.
- II. Almanya sınırlarını genişletmiştir.
- III. Yeni devletler kurulmuştur.

yargılarından hangilerine ulaşılabilir?

- A) Yalnız I                      B) Yalnız II                      C) I ve III                      D) I, II ve III

2. Aşağıda Şevket Süreyya Aydemir'in "Tek Adam" adlı eserinden bir alıntı yapılmıştır:

"Mustafa Kemal, Erzurum Kongresi'ne katılmak üzere Sivas üzerinden Erzurum'a ulaştı. Mustafa Kemal'e padişahın saray başkatipliğinden memuriyetine son verildiği için İstanbul'a dönmesi bildirildi. Mustafa Kemal ise aynı gün görevlerinden ve askerlik görevinden istifa ettiğini bildirdi. Diğer bir deyişle "Sineyimillete döndü." Mustafa Kemal artık bir sivildir. Bu durumda Mustafa Kemal'in en büyük destekçisi Kâzım (Karabekir) Paşa olur. 'Emrinizdeyim paşam. Ben, subaylarım, erlerim, kolordum hepimiz emrinizdeyiz.' diyerek Mustafa Kemal'e bağlılığını bildirir. O an hem Mustafa Kemal'in hem de Millî Mücadele'nin tarihinde kader tayin edici bir andır."

Bu metne göre aşağıdaki yargılardan hangisine ulaşılabilir?

- A) Kazım Karabekir, askeri görev ve yetkilerini Mustafa Kemal'e devretmiştir.  
B) Yaşanan gelişmeler nedeniyle Erzurum Kongresi toplanamamıştır.  
C) Mustafa Kemal'in liderlik özelliği ön plana çıkmıştır.  
D) Millî Mücadele süreci Erzurum'da başlamıştır.

3. Aşağıdaki metinde Amiral Bristol Raporu'ndan bir kesit yer almaktadır:

"...İngiliz Hükûmeti liderlerinin kamuoyu önünde verdikleri demeçlerde, İzmir ve çevresindeki bölge nüfusunun çoğunluğunun Rum olduğu, dolayısıyla Yunan koruyuculuğu altında bulunması gerektiği ile ilgili iddialar, gerçeklerle bağdaşmamaktadır. Bazı kıyı kentlerinde, örneğin Ayvalık ve benzeri yerlerde yaşayanların çoğu Rum'du ama bunların çevresindeki bölgeler neredeyse tamamen Türk'tü. İzmir kentinde bile en yetkili kişiler ahali çoğunluğunun Rum olduğunu söyleyemezler. İzmir çevresinde, iç bölgelerde halk tamamen Türk'tür. Yunan işgalinden sonra Aydın demir yoluyla Balçık'tan Ormolu'ya kadar boşalmış bölgeyi görmek, bu durumun açık bir örneğidir. Yunan kuvvetleri tarafından buralarda ayakta bir ev, köy bırakılmamıştır. Tarlalarda ürün toplayan bir kişi görülmemektedir. Ürün terk edilmiş ve çürümektedir. Bölge halkı, evlerini bırakıp bölgeyi terk etmiştir."

**Bu metinden,**

- I. Rapor, Türklerin haklılığını ortaya koymuştur.
- II. İngiliz Hükûmeti, kamuoyunu yanlış yönlendirmiştir.
- III. Yunanlar Wilson Prensiplerine uygun hareket etmiştir.

**yargılarından hangilerine ulaşılabilir?**

- A) Yalnız I                      B) I ve II                      C) II ve III                      D) I, II ve III

4. Erzurum Kongresi kararlarından bazıları şunlardır:

- Kuvayımillîye'yi etken, millî iradeyi egemen kılmak esastır.
- Manda ve himaye kabul olunamaz.
- Mebusan Meclisinin bir an önce toplanması ve hükûmet işlerinin meclis denetiminde sürdürülmesini sağlamak için çalışılacaktır.
- Millî sınırlar içinde vatan bir bütündür, parçalanamaz.

**Buna göre Erzurum Kongresi ile ilgili aşağıdakilerden hangisi söylenemez?**

- A) Ülke bütünlüğünün korunacağı belirtilmiştir.  
B) Millî iradenin yönetime yansması hedeflenmiştir.  
C) Bağımsızlığın kayıtsız şartsız sağlanacağı ifade edilmiştir.  
D) İstanbul Hükûmeti'nin temsil gücünün artırılması amaçlanmıştır.

5. İtilaf Devletleri ile İstanbul Hükûmeti arasında imzalanan Sevr Antlaşması'nın bazı maddeleri şunlardır:

- Boğazlar uluslararası bir komisyonun denetiminde olacak ve bütün devletlerin gemilerine açık bulundurulacaktır.
- Antalya, Burdur, Konya ve Isparta çevreleri İtalya'ya verilecektir.
- Irak, Ürdün, Filistin ve Hicaz İngiliz mandasına bırakılacaktır.

**Buna göre Sevr Antlaşması ile ilgili,**

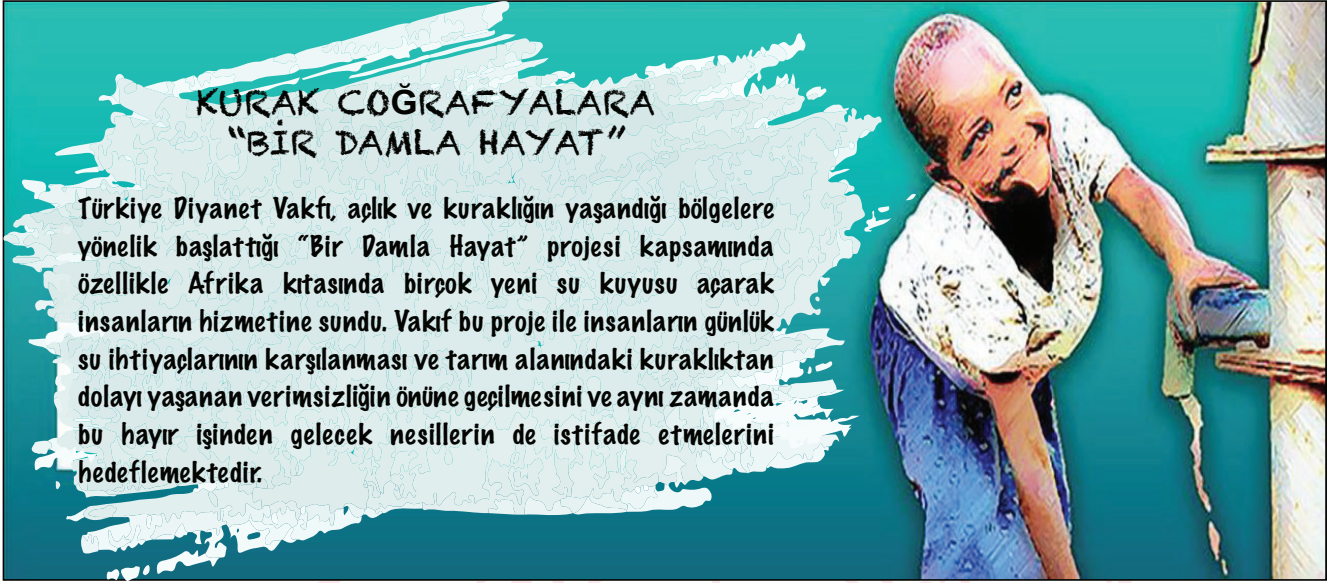
- I. Türk tarafının Boğazlar üzerindeki egemenlik hakları kısıtlanmıştır.
- II. Türk milletinin bağımsızlığının korunması amaçlanmıştır.
- III. Misakımillî'ye aykırı maddeler içermektedir.

**çıkartımlarından hangileri yapılabilir?**

- A) Yalnız I                      B) I ve III                      C) II ve III                      D) I, II ve III

## Din Kültürü ve Ahlak Bilgisi Örnek Soruları

1.



Görselde sözü edilen proje kesin olarak aşağıdakilerden hangisinin kapsamındadır?

- A) Zekât                      B) Sadaka-i cariye                      C) Fitre                      D) Fidyeye

2. Zekât fakirin hakkı,

Zenginim imtihanı,

-----

Budur sadakadan farkı.

Bu dörtlükte boş bırakılan yere konusu bağlamında aşağıdaki dizelerin hangisi getirilmelidir?

- A) Beden ile yapılır.  
B) Ramazan'da verilir.  
C) Nisap miktarı vardır.  
D) Her Müslümana farzdır.



3. Zekât verilecek bazı mallar ve miktarları tabloda gösterilmiştir.

NELERDEN?	• Altın, gümüş • Nakit para • Menkul değerler • Ticaret malları	• Koyun ve keçi	• Sığır ve manda
NE KADAR?	1/40 yani %2.5	40'tan 120'ye kadar 1 koyun veya keçi, 121'den 200'e kadar 2 koyun veya keçi	(1/30) 30'dan 40'a kadar 1 tane iki yaşında buzağı, 41'den 59'a kadar 1 tane üç yaşına basmış buzağı

Kerem; 48 keçi, 38 inek ve 30.000 TL paranın zekâtını vermek istemektedir.

**Buna göre vermesi gereken zekât miktarı ile ilgili aşağıdakilerden hangisi doğrudur?**

- A) Parasının zekâtı 1000 TL'dir.
- B) İnekleri için 2 buzağı vermelidir.
- C) Vermesi gereken keçi sayısı 1'dir.
- D) Keçilerin zekâtını 2 koyun olarak da verebilir.

4. Seyahat eden bir bilge, dere kenarında değerli bir taş bulur. Sonraki gün, ihtiyaç sahibi biriyle karşılaşır ve beğendiği bu taşı tereddüt etmeden ona verir. Sevinçle oradan ayrılan adam, ertesi gün bu taşı bilgeye geri getirir ve şöyle der: "Bana verdiğin taşın ne kadar değerli olduğunun farkındayım. Ama düşündüm ki sende bu taştan daha değerli bir şey var. Bu mücevheri verebilmeni mümkün kılan bir şey... Bana onu verir misin?"

**Bu metinde vurgulanan ahlaki tutum aşağıdakilerden hangisidir?**

- A) Hoşgörü
- B) Cömertlik
- C) Dürüstlük
- D) Çalışkanlık

5. Bir gün, Hz. Muhammed (sav.) "Her Müslümanın sadaka vermesi gerekir." buyurdu. "Ya bulamayan olursa?" diye sorulunca "Elinin emeğiyle çalışır, hem kendi için harcar hem de sadaka olarak verir." dedi. "Peki bunu yapamazsa?" diye tekrar sorulunca "Bu durumda, sıkışmış bir ihtiyaç sahibine yardım eder." cevabını verdi. "Buna da gücü yetmezse?" diye yine bir soru sorulunca da "İyiliği veya hayrı tavsiye eder." dedi. "Bunu da yapamazsa?" denerek yeniden sorulunca "Kötülük yapmaktan uzak durur. Bu da onun için sadakadır." cevabını verdi.

**Bu hadiste sadaka ile ilgili aşağıdakilerden hangisi anlatılmaktadır?**

- A) Bireye manevi katkılar sağladığı
- B) Gönül kırmadan verilmesi gerektiği
- C) Toplumsal dayanışmayı güçlendirdiği
- D) Çeşitli koşullarda yerine getirilebileceği

## ► Yabancı Dil (İngilizce) Örnek Soruları

Read the text, look at the table, and answer the question.

1.



Sabrina

I have a true friend in my class. She never tells lies and always keeps my secrets. She often makes jokes. We generally get on well with each other because we share the same hobbies. We usually ride a bike and go to the cinema together. I like spending time with her.

	Mary	Rose	Sally	Jane
Personal quality	generous & honest	funny & polite	polite & generous	honest & funny
Favourite activity	playing team sports	going to concerts	doing sports	watching films

According to the information above, who is Sabrina's best friend?

A) Mary

B) Rose

C) Sally

D) Jane

Look at the poster below and complete the sentence.

2.



**CHESS** 2021  
Tournament

Come and Play at a Great Tournament!  
Invite Friends and Family to Come and Watch!  
Make New Friends!

OPEN TO ALL  
Tuesday, June 16  
Pine School Sports Hall  
9 am - 5 pm

The poster does NOT have any information about the - - - - of the tournament.

A) date

B) place

C) reward

D) time


Read the text and answer the question.

3. A restaurant does a survey about the food preferences of its customers. The purpose is to find the most popular meals and to prepare a different menu according to the preferences of the customers. Here is some information about the results of the survey:

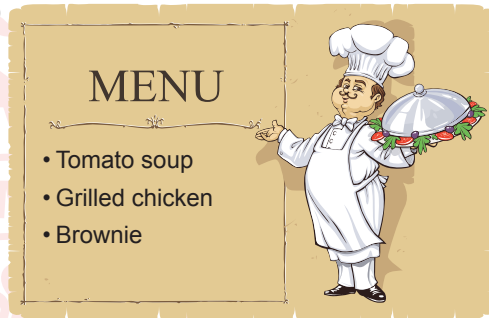
- Vegetable soups are more popular than the other soups.
- Only a few people dislike eating meat.
- Most of the people like having a dessert after their meal.

Which of the following should the restaurant prepare according to the information above?


A)




B)



C)



D)





Read the conversation and answer the question.

4.

Hi, Nick. How are you?

Not bad bro, you?

Fine, we are organizing a football match on Wednesday evening. Do you want to come and play with us?

What time?

I'm not sure but it can be at 8 or 10 pm.

OK, call me when you know, and I will decide then.

Alright, I will let you know.



John



Nick

Which of the following is **CORRECT** according to the conversation?

- A) John does not tell Nick the exact time.
- B) John and Nick are not close friends.
- C) The match will be at the weekend.
- D) Nick refuses John's invitation.

Read the text and answer the question.

5. People can use the Internet to do different things. For example, they:

- have fun,
- communicate with others,
- search for information and learn new things.

Whose purpose of using the Internet does **NOT** match the examples in the text above?

A)



Mary

I often look for different recipes on the Internet.

B)



Tom

I use the Internet to send emails and chat with my friends.

C)



Sam

I use the Internet to watch movies and play games.

D)



Sophie

I generally buy what I need on the Internet.

## CEVAP ANAHTARI

### TÜRKÇE

1. B
2. A
3. B
4. C
5. C
6. A
7. B
8. D
9. C
10. D

### T.C. İNKILAP TARİHİ VE ATATÜRKÇÜLÜK

1. C
2. C
3. B
4. D
5. B

### DİN KÜLTÜRÜ VE AHLAK BİLGİSİ

1. B
2. C
3. C
4. B
5. D

### YABANCI DİL (İNGİLİZCE)

1. D
2. C
3. B
4. A
5. D