



T.C.
MİLLÎ EĞİTİM BAKANLIĞI
ÖLÇME, DEĞERLENDİRME VE SINAV HİZMETLERİ GENEL MÜDÜRLÜĞÜ


2018 - 2019 ÖĞRETİM YILI
Sınavla Öğrenci Alacak Ortaöğretim Kurumlarına
İlişkin Merkezî Sınav Yönelik
Şubat Ayı Örnek Soruları
(SAYISAL BÖLÜM)

- Bu kitapçıkta sayısal bölüme ait örnek sorular bulunmaktadır.
 - Matematik : 10 soru
 - Fen Bilimleri : 10 soru



Matematik Örnek Soruları

1. Bir toplantı salonuna genişliği 60 cm olan koltuklar, bir doğru boyunca aralarında 25 cm boşluk bulunacak şekilde yerleştirilmiştir. İlk koltuk ile duvar arasında boşluk olmayıp son koltuk ile duvar arasında ise 25 cm boşluk vardır.



Bu salona daha fazla koltuk yerleştirmek için koltuklar, bir doğru boyunca aralarında 15 cm boşluk bulunacak şekilde yeniden düzenlenmiştir. Bu düzenlemede ilk koltuk ile duvar arasında boşluk olmayıp son koltukla duvar arasında da 15 cm boşluk kalmıştır.

Bu durumda salondaki bir sıraya aynı koltuklardan en az kaç tane daha yerleştirilmiştir?

A) 1

B) 2

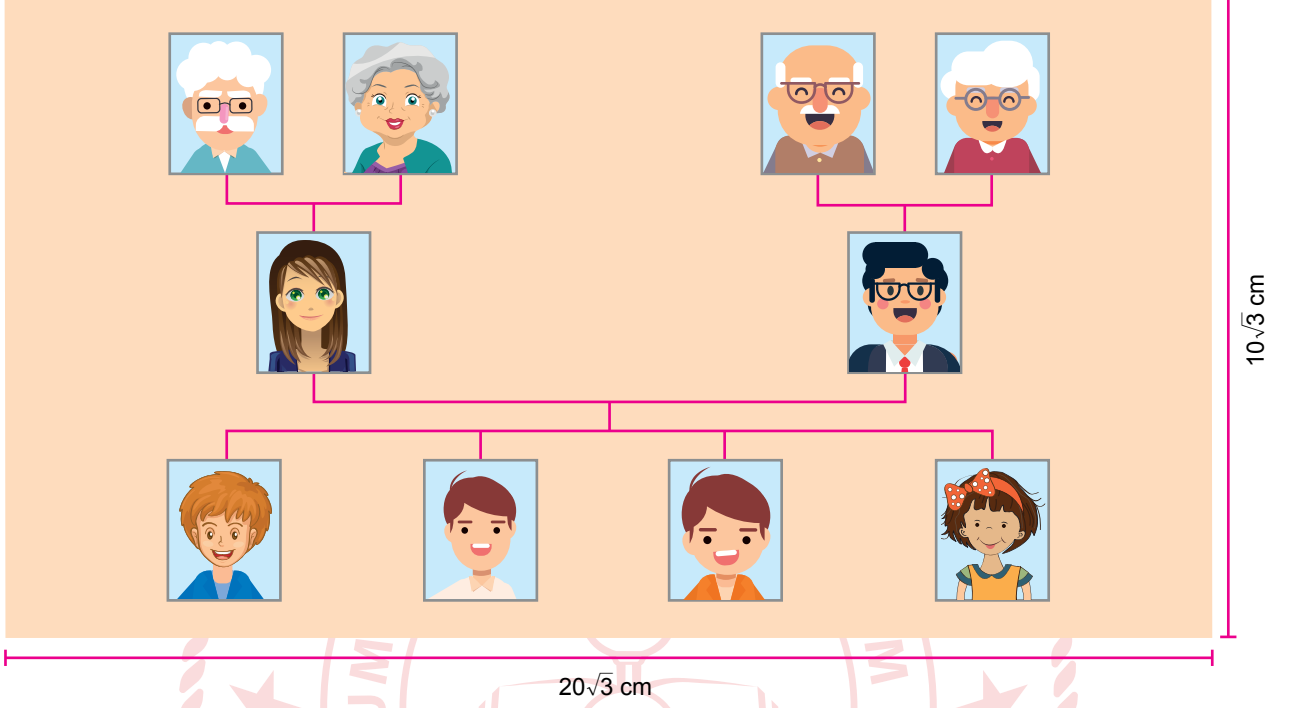
C) 3

D) 4

2. a, b, c, d birer gerçek sayı ve $c \geq 0, d \geq 0$ olmak üzere $a\sqrt{c} \cdot b\sqrt{d} = a \cdot b \sqrt{c \cdot d}$ dir.

Boyutları x ve y olan dikdörtgenin alanı $x \cdot y$ dir.

Ahmet ailesinin fotoğraflarını boyutları $10\sqrt{3}$ cm ve $20\sqrt{3}$ cm olan dikdörtgen şeklindeki kartona yapıştırarak aşağıdaki soy ağacı albümünü oluşturmuştur.



Ahmet'in bu kartona yapıştırdığı tüm fotoğrafların büyüklükleri birbirine eşit olup bir fotoğrafın boyutları $4\sqrt{2}$ cm ve $3\sqrt{2}$ cm'dir.

Ahmet'in fotoğraf yapıştırdığı alan kartonun bir yüzeyinin yüzde kaçdır?

A) 20

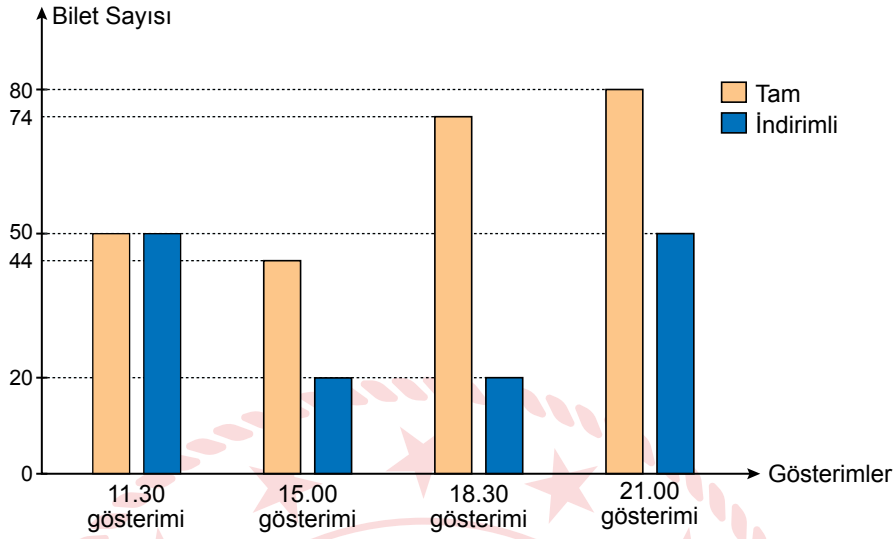
B) 30

C) 40

D) 50

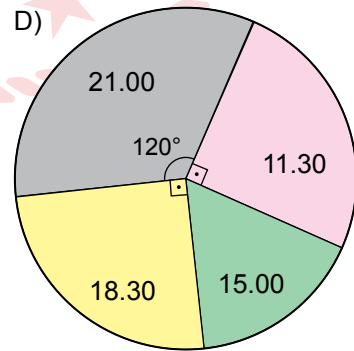
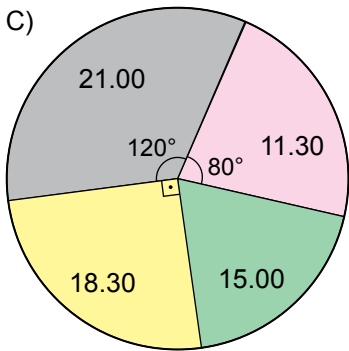
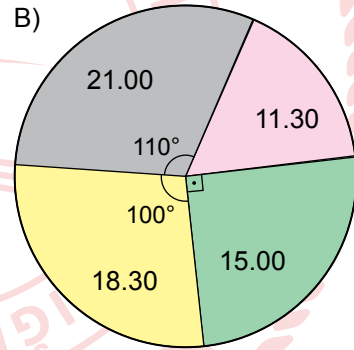
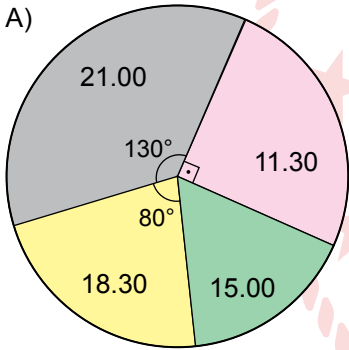
3. Aşağıda bir sinemada bir filmin gün içindeki 4 farklı gösteriminde satılan tam ve indirimli bilet sayıları verilmiştir.

Grafik: Satılan Tam ve İndirimli Bilet Sayıları



Bu sinema salonunda indirimli biletin ücreti tam biletin ücretinin $\frac{4}{5}$ 'ine eşittir.

Buna göre bu 4 gösterim için izleyicilerin ödediği toplam ücretin gösterimlere göre dağılımını gösteren dairesel grafik aşağıdakilerden hangisidir?



4. Ankara'dan Trabzon'a uçakla gidip dönecek olan Bülent'in istediği tarihlerdeki uçak seferlerine ait bilet fiyatları aşağıda verilmiştir.

Gidiş - Dönüş	
Ankara	Trabzon
12 Şubat Salı	15 Şubat Cuma
1 Yolcu	

Gidiş	
Saat	Ücret
08.15	150 TL
11.50	190 TL
16.05	170 TL
22.50	150 TL

Dönüş	
Saat	Ücret
10.00	190 TL
11.10	210 TL
18.00	210 TL
21.50	190 TL

Bülent yukarıda verilen fiyatlarla gidiş ve dönüş uçak biletlerini alıyor.

Buna göre Bülent'in uçak biletlerini alırken ödediği toplam tutar için kaç farklı olası durum vardır?

A) 4

B) 6

C) 8

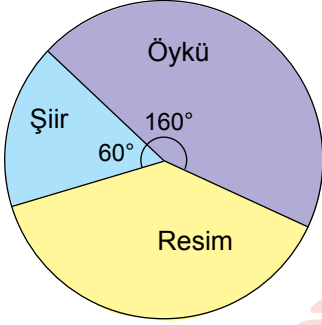
D) 10

5. Bir olayın olma olasılığı = $\frac{\text{İstenilen olası durumların sayısı}}{\text{Tüm olası durumların sayısı}}$

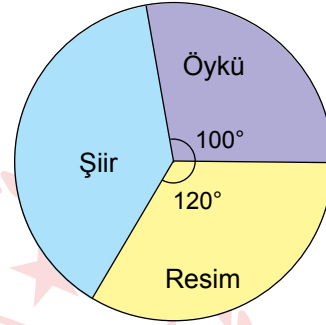
1 - 7 Mart tarihleri arasında kutlanan Yeşilay Haftası etkinlikleri kapsamında bir ilçede orta öğretim öğrencileri arasında şiir, öykü ve resim alanlarında yarışma düzenlenmiştir. Yarışmaya katılan 90 eserin arasından rastgele seçilen bir eserin şiir olma olasılığı en fazla, resim olma olasılığı en azdır.

Buna göre eserlerin dağılımını gösteren dairesel grafik aşağıdakilerden hangisi olabilir?

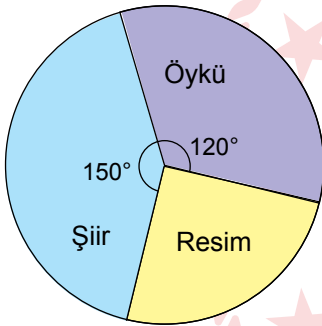
A) Grafik: Eserlerin Dağılımı



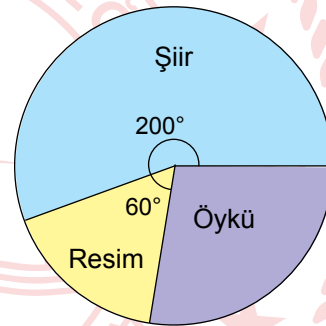
B) Grafik: Eserlerin Dağılımı



C) Grafik: Eserlerin Dağılımı



D) Grafik: Eserlerin Dağılımı



6. Aşağıdaki şekilde bir lokantanın her birinin genişliği a cm, yüksekliği $(a + b)$ cm olan dört eş bölmeden oluşan kapısının görseli verilmiştir.



Bu kapıda sensörler yardımıyla ortadaki iki bölme her iki tarafa da eşit miktarda açılmakta ve açılan bölmelerin bir kısmı diğer bölmelerin arkasında kalmaktadır.



Kapı tam açıldığında bölmeler arasında kalan bölgenin genişliği $2b$ cm olmaktadır.

Buna göre kapı tam açıldığında ortadaki bölmelerden birinin diğer bölmenin arkasında kalmayan kısmının santimetrekare cinsinden alanını gösteren cebirsel ifade aşağıdakilerden hangisidir?

A) $a(a + b)$

B) $2(a - b)^2$

C) $a^2 - b^2$


D) $a^2 + b^2$

7. Aşağıda uzunlukları eşit iki tane plastik çubuk verilmiştir.



Kırmızı çubuğun bir ucundan 2 cm'lik parça kesilip kalan kısmı 3 eşit parçaya, siyah çubuğun ise bir ucundan 3 cm'lik parça kesilip kalan kısmı 4 eşit parçaya ayrılıyor.

Boyları arasında 3'er cm fark olan kırmızı ve siyah çubuk parçaları aşağıdaki gibi uç uca birleştirilerek çubuklar arasında yedigen şeklinde bir bölge elde ediliyor.



Buna göre elde edilen yedigen şeklindeki bölgenin çevresi kaç santimetredir?

A) 80


B) 75

C) 70

D) 65

8. Yanda iç içe geçirilmiş üstü açık 9 tane küpten oluşan bir oyuncak görseli verilmiştir.

Bu oyuncaktaki her küpün kenar uzunluğu içinde bulunduğu küpün kenar uzunluğundan 1 cm daha kısa ve en büyük küpün kenar uzunluğu en küçük küpün kenar uzunluğunun 2 katıdır.



Doruk babasının aldığı küpleri aşağıdaki gibi üst üste dizmiştir. Oluşan şeklin boyu Doruk'un boyuna eşit olmuştur.



Buna göre Doruk'un boyu kaç santimetredir?

A) 116

B) 112

C) 108

D) 104

9. Bir inşaat firması, yeni yaptığı dairelere taktıracığı mutfak dolapları ve vestiyerler için bir mobilyacıdan aşağıdaki fiyat teklifini almıştır.

	Mutfak Dolabı	Vestiyer
Katma Değer Vergisi (KDV) Hariç Metrekare Fiyatı	500 TL	450 TL

İnşaat firması, her daire için 11 m² lik mutfak dolabı ve 10 m² lik vestiyer yaptıracaktır.

Verilen teklife göre inşaat firmasının, yaptıracığı tüm mutfak dolapları ve vestiyerler için ödemesi gereken toplam tutar, % 18 Katma Değer Vergisi (KDV) dâhil 236 000 TL'dir.

Buna göre inşaat firması kaç daire için mutfak dolabı ve vestiyer yaptırmak istemektedir?

A) 18

B) 20

C) 22

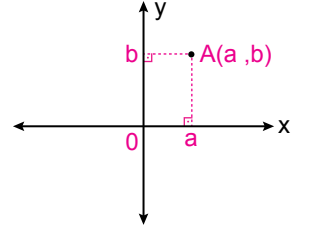
D) 24



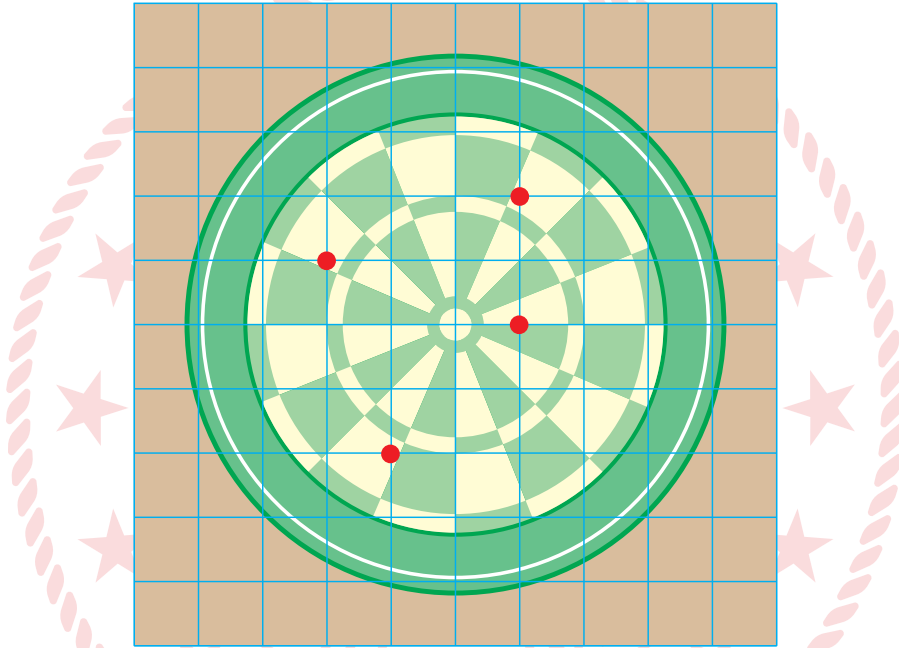
10. İki sayı doğrusunun 0 (sıfır) noktasında dik kesişmesiyle koordinat sistemi oluşur.

Koordinat sisteminde bir noktadan x eksenine çizilen dikme, x eksenini a noktasında; y eksenine çizilen dikme, y eksenini b noktasında kessin. Bu durumda sırasıyla a ve b sayılarının oluşturduğu sayı ikilisine sıralı ikili denir ve (a, b) şeklinde gösterilir.

Koordinat sisteminde A noktasına karşılık gelen sıralı ikili (a, b) ise bu $A(a, b)$ şeklinde gösterilir.



Aşağıdaki birim kareli zemin üzerine yerleştirilmiş hedef tahtasına Kaan, Doruk, Eylül ve Ceren birer atış yapıyor. Yaptıkları atışların tahta üzerinde isabet ettiği yerler kırmızı nokta ile gösterilmiştir.



Kaan'ın, Doruk'un ve Eylül'ün atışlarının isabet ettiği noktaların koordinatları sırasıyla $(-2, 1)$, $(1, 0)$ ve $(1, 2)$ olduğuna göre Ceren'in atışının isabet ettiği noktanın koordinatları aşağıdakilerden hangisidir?

A) $(-1, -2)$

B) $(-1, 2)$

C) $(-2, 1)$

D) $(-2, -1)$

Fen Bilimleri Örnek Soruları

1. Aşağıdaki görseller yeni sönmüş bir yangının ardından siyahlaşmış toprak üzerinde yaşayan güveleri temsil etmektedir.




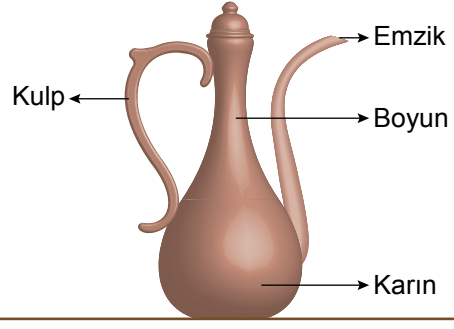
Başlangıçta güve topluluğu farklı kalıtsal özelliklere sahip bireylerden oluşmaktadır (Şekil-I). Ancak açık renkli güveler avcı kuşlar tarafından kolayca fark edilerek avlanmışlardır (Şekil-II). Hayatta kalmayı başaran kömür rengi güveler ise üremeye devam ederek bu özelliklerinin varlığını korumuşlardır (Şekil-III).

Bu görsel ve açıklamalara göre aşağıdaki ifadelerden hangisi yanlıştır?

- A) Başlangıçta güvelerde renklenme ile ilgili kalıtsal varyasyonlar bulunmaktadır.
- B) Açık renkli güvelerin avcı kuşlar tarafından yok edilmeleri doğal seçilimle elenmedir.
- C) Koyu renkli güvelerin hayatta kalması çevre etkisiyle ortaya çıktığından modifikasyona örnektir.
- D) Değişen ortam şartları güvelerde yarar sağlayan kalıtsal özelliklerin devam etmesinde etkili olmuştur.

2.

Su ve benzeri sıvıları koymaya yarayan emzikli kulplu kaplara ibrik denir. İbrikler düz tabanlı, dipten başlayarak genişleyen yuvarlak gövdeli, dar ve uzun boyunlu kaplardır.



Yukarıda verilen üç farklı ibrik, emziklerinden taşınıncaya kadar yavaşça su ile dolduruluyor.

Buna göre ibriklerin tabanlarında oluşan sıvı basınçlarının sıralaması aşağıdakilerin hangisinde doğru olarak verilmiştir?

A) I < II < III

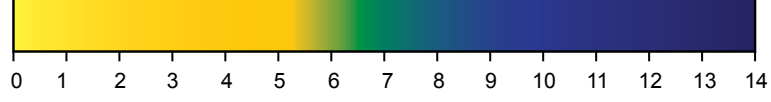
B) II < I < III

C) I < III < II

D) III < I < II

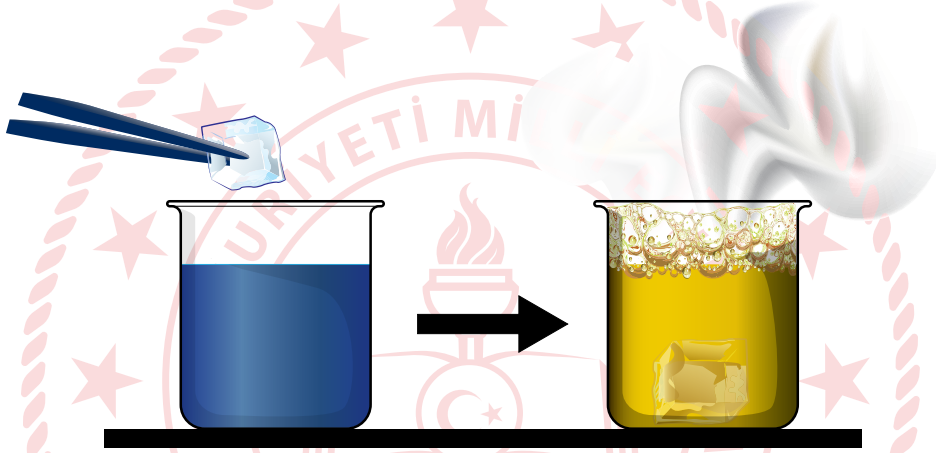
3. Kimyasal tepkime, bir ya da birkaç maddenin etkileşime girerek yeni bir element veya bileşik grubuna dönüştürülmesi işlemidir. Bu işlem sırasında renk değişimi, gaz çıkışı ve çökelek oluşumu gibi olaylar gözlemlenebilir.

Bromtimol mavisi, maddelerin asit ya da baz olduğunu anlamamızı sağlayan bir pH indikatörüdür. Asidik ortamda sarı, bazik ortamda mavi ve nötr ortamda yeşil renkte olan bromtimol mavisinin pH'a bağlı renk değişimi aşağıda verilmiştir.



Kuru buz ise atmosferde doğal olarak gaz hâlde bulunan karbondioksitin katı hâlidir.

Aşağıdaki görselde bromtimol mavisi indikatörü damlatılan beher içindeki suya kuru buz eklenmesi ve ardından gaz çıkışıyla birlikte çözeltideki indikatör renginde yaşanan değişim gösterilmiştir.



Bu işlemle ilgili olarak aşağıdakilerden hangisi söylenemez?

- A) Kuru buz ilavesinden sonra çözeltideki hidroksit iyonu (OH^-) derişimi artmıştır.
B) Kuru buz ilavesinden sonra kimyasal bir tepkime gerçekleşmiştir.
C) Bromtimol mavisi damlatılan su, bazik özellik göstermektedir.
D) Karbondioksit, çözeltinin asidik olmasına neden olmuştur.

4. • Deney sırasında bizim değiştirdiğimiz değişkenlere “bağımsız değişken” denir.
- Deney sırasında bağımsız değişkene bağlı olarak değişen değişkenlere “bağımlı değişken” denir.
- Deney sırasında kontrolümüzde kalan, miktarı değişmeyen değişkenlere “kontrollü değişken” denir.

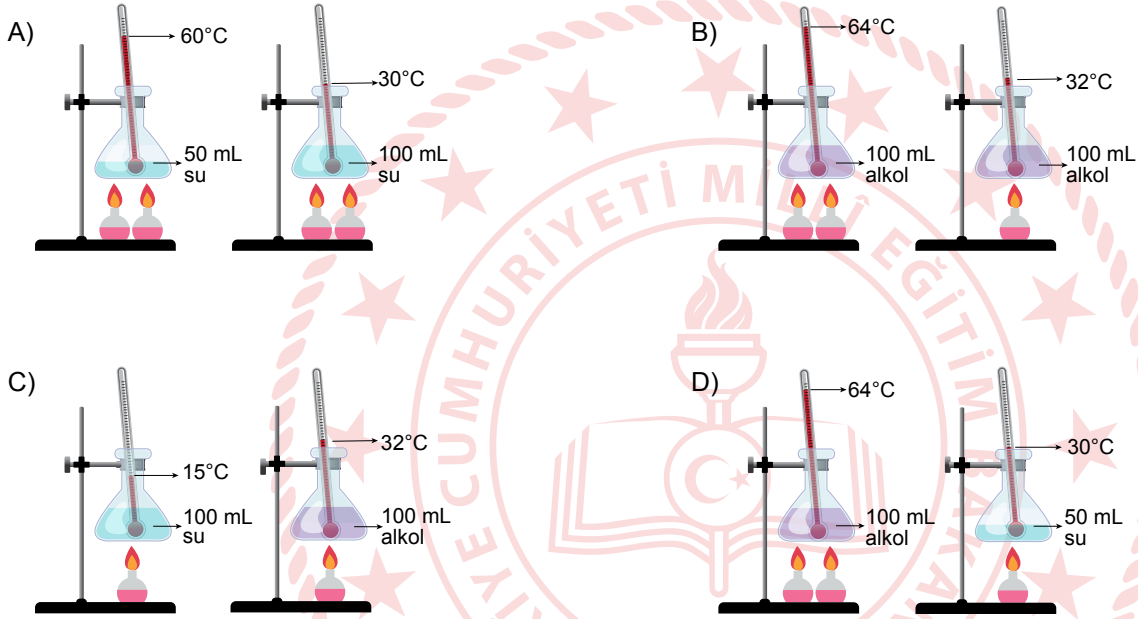
Fen bilimleri öğretmeni, maddenin ısı ile etkileşimi konusuna yönelik su ve alkol kullanarak laboratuvarında bir deney yapmıştır. Gözlem sonuçlarına göre, öğrenciler ve öğretmen deneye ait değişkenleri aşağıdaki gibi belirlemiştir.

Bağımsız değişken : Sıvılara verilen ısı

Bağımlı değişken : Sıcaklık artışı

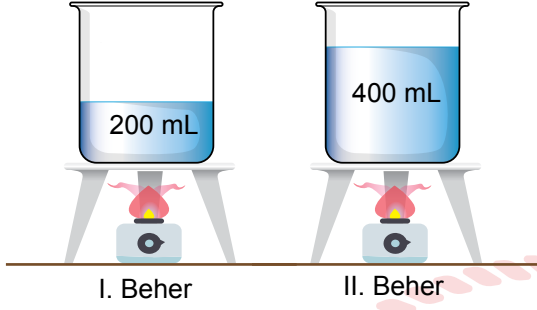
Kontrollü değişken : Kaplar, ısıtıcılar; sıvıların cinsi, miktarı, ilk sıcaklıkları ve ısıtma süresi

Bu bilgilere göre öğretmenin hazırladığı deney düzeneği aşağıdakilerden hangisi olabilir?



5. Bilim insanları, arařtırmalarına bir problemi ortaya ıkararak bařlarlar. Bununla ilgili gzlem yapar, veri toplar, hipotez (probleme ynelik geici zm yolu) kurar ve hipotezlerini test etmek iin deneyler yaparlar.

Bir ğrenci, belirlediėi problemi arařtırmak iin ařaėıdaki deney dzeneėini kurarak zdeř ısıtıcılarla su dolu beherleri beř dakika boyunca ısıtmıř ve sonuları tabloda gstermiřtir.

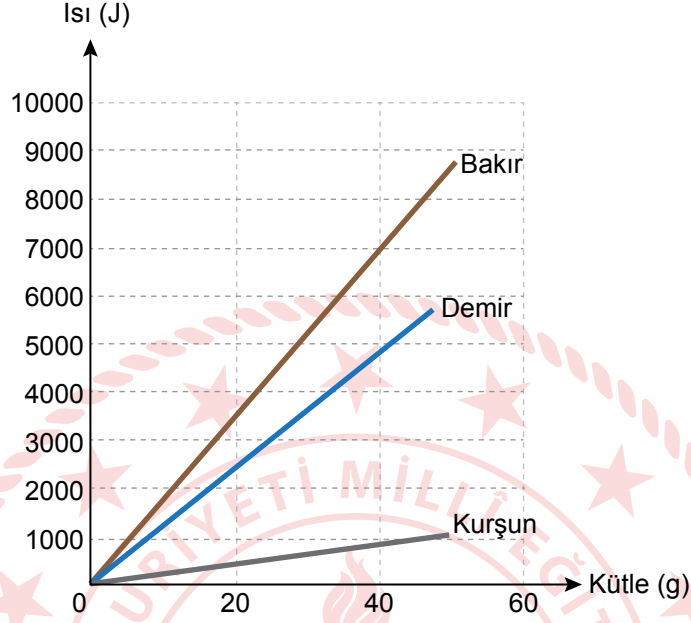


Zaman (dakika)	I. Beherin Sıcaklıėı (°C)	II. Beherin Sıcaklıėı (°C)
0	25	25
1	35	30
2	45	35
3	55	40
4	65	45
5	75	50

ğrenci yapmıř olduėu bu deney ile ařaėıdaki hipotezlerden hangisini test etmek istemiřtir?

- A) Eřit miktarda ısı alan farklı cins maddelerin son sıcaklıkları farklı olur.
B) Ktleleri aynı olan aynı cins maddelerin eřit srede aldıkları ısılar birbirinden farklıdır.
C) Ktleleri farklı olan aynı cins maddelere, eřit ısı verildiėinde son sıcaklıkları farklı olur.
D) Ktleleri farklı olan farklı cins maddeler, eřit sre ısıtıldıėında son sıcaklıkları farklı olur.

6. Bir fabrikada, kalıba dökme yöntemiyle farklı metallerden motor parçası üretiliyor. Bunun için metallerin eritilmesi gerekiyor. Fabrikada kullanılan erime sıcaklığındaki metallerin erimesi için gerekli ısının kütleye göre değişim grafiği aşağıdaki gibidir.



Buna göre,

- I. 5000 J ısının erittiği bakır miktarı demir miktarından daha fazladır.
- II. 40 g kurşunu eritmek için gerekli ısı 20 g demiri eritmek için gerekli ısıdan daha azdır.
- III. 40 g bakırı eritmek için gerekli ısı ile 40 g kurşun ve 40 g demir eritilebilir.

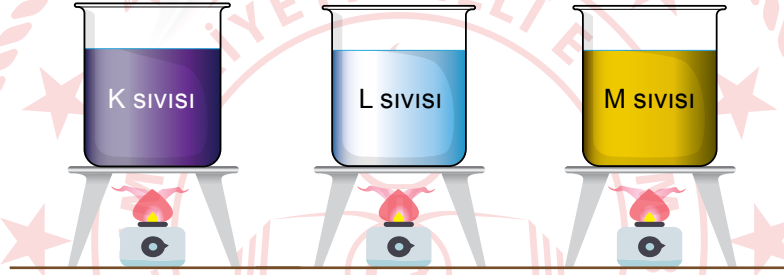
yargılarından hangileri doğrudur?

- A) Yalnız I. B) Yalnız II. C) II ve III. D) I, II ve III.

7. Saf bir maddenin 1 gramının sıcaklığını 1 °C artırmak için gerekli olan enerjiye "öz ısı" denir. Öz ısı tıpkı kaynama sıcaklığı gibi, saf maddeler için ayırt edici bir özelliktir.

Örneğin aşağıda bazı maddelerin öz ısı ve deniz seviyesindeki kaynama sıcaklıkları ile 100 cm³'lerini 0 °C'den kaynama sıcaklıklarına ulaştırmak için verilmesi gereken ısı enerjileri tablo şeklinde verilmiştir.

Maddeler	Öz ısı (J/g·°C)	Kaynama Sıcaklığı (°C)	Verilmesi Gereken Enerji (J)
Cıva	0,139	356,7	67.103
Su	4,18	100	41.800
Etanol	2,46	78,4	15.211



Yukarıdaki özdeş kaplar içinde aynı sıcaklık ve hacimde saf K, L ve M sıvıları bulunmaktadır. Bu kaplar, özdeş ısıtıcılarla aynı anda ısıtılmaya başlandıktan bir süre sonra K sıvısının kaynamaya başladığı gözleniyor ve ocaklar kapatılıyor.

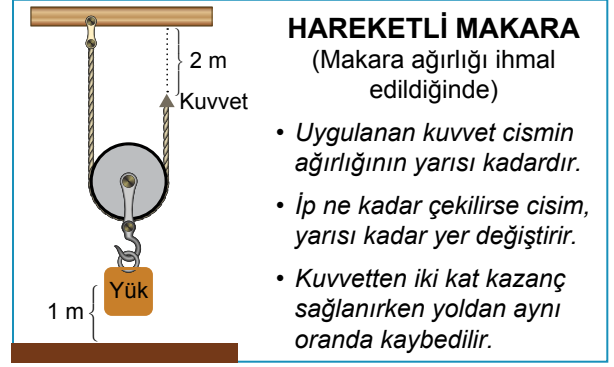
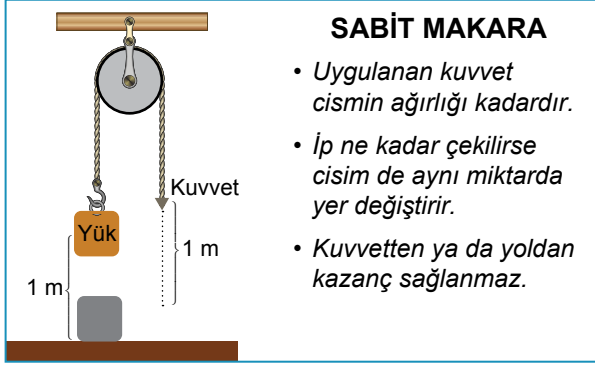
Buna göre sıvılarla ilgili,

- K sıvısı kaynadığında diğerleri kaynamadığından L ve M sıvıları aynı, K sıvısı farklıdır.
- Daha kısa sürede kaynadığından K sıvısının öz ısı, L ve M sıvılarından daha düşüktür.
- K sıvısı kaynadığında L sıvısı kaynamadığından K ve L sıvıları farklıdır.

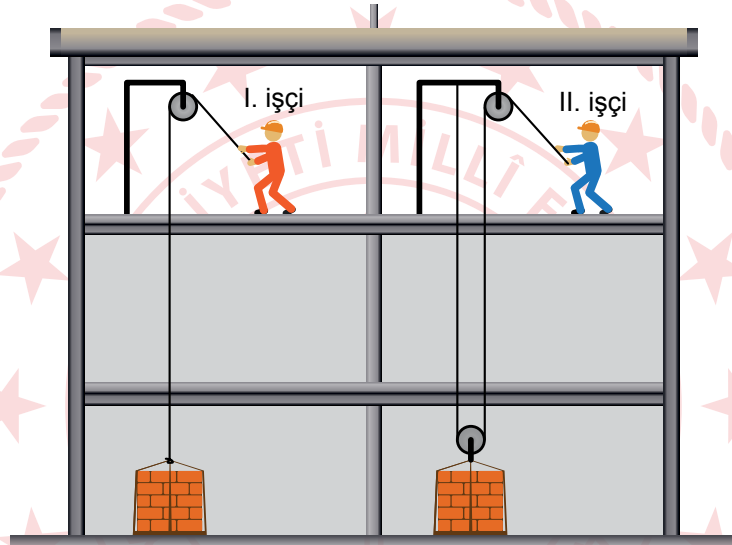
yargılarından hangileri kesinlikle doğrudur?

- A) Yalnız I. B) Yalnız III. C) II ve III. D) I, II ve III.

8.



Aşağıdaki şekilde bir inşaatta çalışan işçiler gösterilmektedir.



İnşaatin aynı katında bulunan I. ve II. işçi, içlerinde eşit miktarda tuğla bulunan özdeş paletleri farklı düzenekler kullanarak buldukları yere çıkarıyor.

Buna göre işçilerin, yaptıkları işlerle ilgili aşağıda verilen ifadelerden hangisi doğrudur?

(Makara ve ip ağırlıkları ile sürtünmeler önemsizdir.)

- A) I. işçi daha fazla kuvvet uyguladığından daha fazla iş yapmıştır.
- B) II. işçi kuvvetten kazanç sağladığından daha fazla iş yapmıştır.
- C) II. işçi ipi daha çok çektiğinden daha fazla iş yapmıştır.
- D) Her iki işçi de tuğlaları aynı yüksekliğe çıkardığından eşit iş yapmıştır.


9. Gnlk yařamda kullanılan bazı basit makineler ařađılda gsterilmiřtir.



Kerpeten



Delgeç



Mařa

Buna gre kerpeten, delgeç ve mařa;

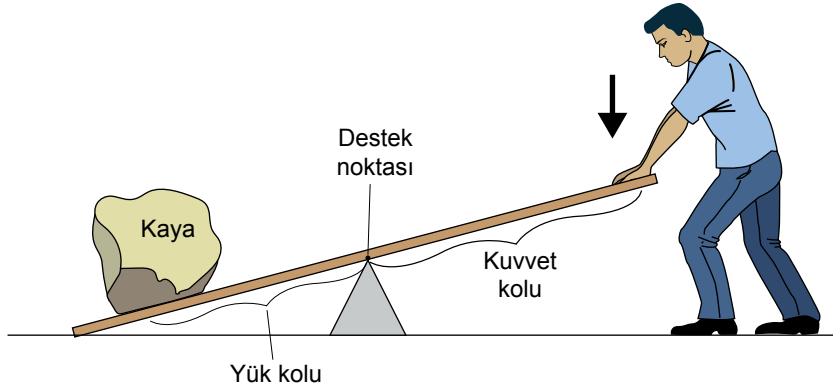
- I. iř kolaylıđı,
- II. kuvvetten kazanç,
- III. yoldan kazanç

avantajlarından hangilerini ortak olarak sađlayan basit makinelerdir?

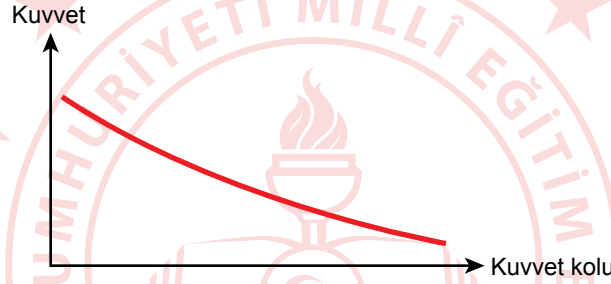
- A) Yalnız I. B) I ve II. C) II ve III. D) I, II ve III.



10. Kaldıraçlar, destek noktası adı verilen sabit bir nokta etrafında dönebilen, düz bir çubuktan oluşan basit makinelerdir.



Bir öğrenci yukarıdaki şekilde gösterildiği gibi kaldıraçın diğer ucuna koyduğu kayayı kaldırmaya çalışmış ancak başaramamıştır. Ardından kaldıraç üzerinde değişiklikler yapmış ve sonunda kayayı kaldırmıştır. Öğrenci, kaldıraç üzerinde yaptığı değişikliklerle kayayı kaldırabilmesi için daha az bir kuvvete ihtiyacı olduğunu fark etmiş ve farkına vardığı bu durumu bir grafik ile aşağıdaki gibi göstermiştir.



Buna göre öğrenci kaldıraç üzerinde aşağıdaki değişikliklerden hangisini yapmış olabilir?

- A) Destek noktasını kayaya yaklaştırmıştır.
- B) Kayayı destek noktasına yaklaştırmıştır.
- C) Kayayı destek noktasından uzaklaştırmıştır.
- D) Destek noktasına daha yakın bir noktadan kuvvet uygulamıştır.

CEVAP ANAHTARI

MATEMATİK

1. B
2. C
3. D
4. A
5. D
6. C
7. D
8. C
9. B
10. A

FEN BİLİMLERİ

1. C
2. D
3. A
4. B
5. C
6. C
7. B
8. D
9. A
10. A

